

SZAKMAI

MUNKAFÜZET



1. Melyik az idei vizsgaidőszak legutolsó kijelölt napja?	3
2. Milyen felszerelésekkel (ruházatban) kell a szolgálatra jelentkezni?	3
3. Mit nem szabad sohasem (a balesetek megelőzése érdekében)?	3
4. Milyen felszereléseket szabad felvinni szolgálatba (a kötelezően előírtakon kívül)?	4
6. Állomások hívójelei és legfőbb információi	4
8. A biztosító berendezések legfontosabb feladata	5
9. Ólomzárral lezárható, vagy számlálóval ellátott nyomógombok	5
11-12. A váltózárkulcsok jelölése - Az állítóemeltyűk	5
13. A tolatásjelző	5
15. Mi a jelzés rendeltetése (jelzés parancs elve)?	6
16. Írd a rajzokon látható kézijelzések alá (a megf. helyre) a nevüket, hangjelzésüket!	6
17. Hogyan adjuk a fenti kérdésben szereplő jelzéseket sötétben (eltérések)?	6
18. Mit jelez a Biztonsági határjelző és hogyan néz ki?	7
19. A szabad- és távolbalátás korlátozottsága	7
20. Mi a rajzon látható jelzések pontos értelme?	8
22. Kijárat jelzők és kijárat vágányút	10
24. Bejárat jelzők és bejárat vágányút	11
29. A vágányútbeállítás elrendelésének szövege	15
30. Sorold fel (egészsítsd ki) a vágányútbeállítás elrendelése után elvégzendő teendőket!	15
31. Váltóhasználhatóság feltételei	15
32. Hogyan kell meggyőződni a vonóvezetékek központból állított váltók használhatóságáról?	16
33. Milyen szöveggel kell bejelenteni a vágányútbeállítás elkészültét?	16
34. Mely esetekben kell a vonatot vészfékkel megállítani?	16
35. Vonatszakadás és Veszély-jelzés	16
36. Mi az állomásnév bemondás célja?	16
37. Ki meneszthet vonatot?	17
38. Mikor adhatnak a vonatkísérők Indulásra-készen jelzést?	17
39. Milyen jelzést köteles adni a vonatkísérő, ha az indulásnak akadálya van?	17
40. Mik a Felhívás az indításra-jelzés adásának feltételei?	17
41. Hogyan kell áthaladó vonatot meneszteni?	17
42. A rendelkező teendők (általában) INDULÓ vonat esetén:	18
43. A rendelkező teendők általában, ÉRKEZŐ vonat esetén:	18
44. Mikor kell a bejárat vágányút beállítását elrendelni?	18
45. Mit jelent az állomástávolságú követési rend?	19
46-49. Az engedélykérés-adás és megtagadás szövege	19
50. Indulási időközlet és az arra adandó válasz szövege:	20
51. Melyek a visszajelentés feltételei?	20
52. Visszajelentés és az arra adandó válasz szövege:	20
53. Írd a rajzokon látható kézijelzések alá a nevüket, hangjelzésüket!	20
54. Milyen jegy váltására jogosult az utas életkora alapján?	21
55. Mit kell tudni a kerékpárok és kutyák fuvarozásáról?	21
56. Gőzvontatású nosztalgiavonatok díjszabása	21
57. Mikor érvényes általában a menetjegy?	21
59. Kereskedelmi táblázat	22
58. Hogyan kezeljük jegyvizsgálatkor a különböző formátumú jegyeket?	23
60. Milyen szabályokat kell betartani a menetjegyek kiadásakor?	23
61-62. Gyermekecsoportok elszámolása, gyermekvasút legfőbb jellemzői	24
63-64. Fölös, Építési szakaszok	25
65. Helyismeret - vaktérkép	27
66-68. Menetrendábra, menetdíjak, átszállójegyek érvényessége	28

8. A biztosító berendezések legfontosabb feladata, hogy _____
_____ ami azt jelenti, hogy

1: a jelzőt csak akkor lehet „szabad” állásba állítani, _____

2: amíg a jelző „szabad” állásban van, _____

9. Mikor kezelhet gyermekvasutas pajtás önhatalmúlag ólomzárral lezárható, vagy számlálóval ellátott nyomógombot?

_____, mert
_____.

Ezalól egyetlen kivétel van: _____ kezelheti.

10. Mikor szabad az alak főjelzők emeltyűjét visszaállítani és a váltókat feloldani a vonat közlekedése (be-illetve kihaladása) után?

11. A váltózárkulcsok jelölése

A kör alakú kulcstábla _____ irányba lezárt váltó kulcsán van.

A négyszögletes kulcstábla _____ irányba lezárt váltó kulcsán van.

12. Írd az emeltyűk megnevezése mellé a színét!

A főjelzők és előjelzők emeltyűje _____ színű. A váltóállító emeltyű _____ színű.

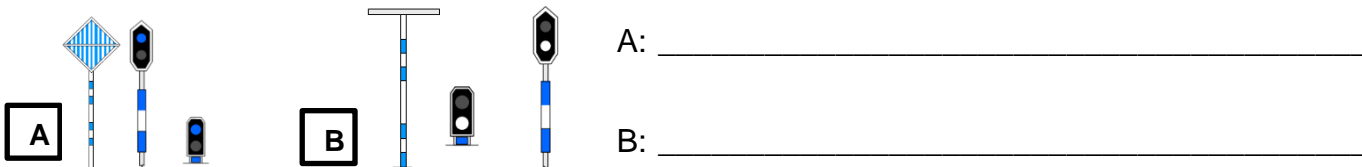
A reteszemeltyű _____ színű. A tolatásjelző emeltyűje _____ színű.

Milyen helyzetben áll a váltóállító emeltyű a különböző irányokban?

Az emeltyű alsó helyzetében a váltó _____ irányban áll.

Az emeltyű felső helyzetében a váltó _____ irányban áll.

13. Mi a rajzon látható jelzések pontos értelme?



14. A tolatásjelző emeltyű alsó helyzetében a tolatásjelző „_____” jelzést mutat.

A tolatásjelző emeltyű felső helyzetében a tolatásjelző „_____” jelzést mutat.

15. Mi a jelzés rendeltetése (jelzés parancs elve)?

A jelzés _____ . A jelzés _____

_____ (pajtásoknak és felnőtt

dolgozóknak) valamilyen _____

_____ végrehajtására. A jelzések _____

kapcsolatot létesítenek a _____ között.

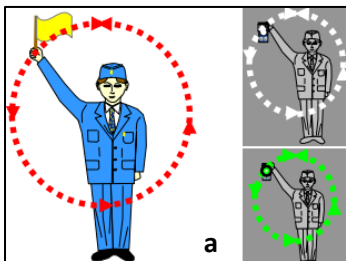
A mások által adott kézi jelzéseket ► _____ és ► _____

közben is _____ ● _____ kell és egymás jelzését

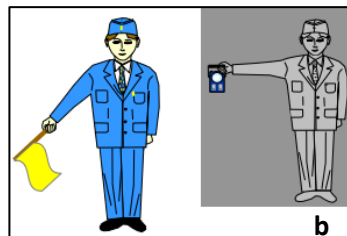
(hogyan?) _____ ● _____

a (ki?) _____ felé.

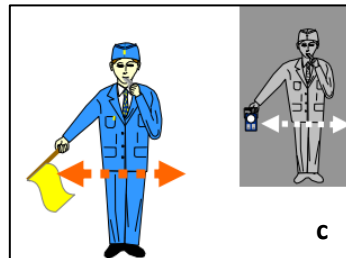
16. Írd a rajzokon látható kézijelzések alá (a megf. helyre) a nevüket, hangjelzésüket!




a



b



c



d

a) Jelzés neve: _____ Hangjelzés: _____

b) Jelzés neve: _____ Hangjelzés: _____

c) Jelzés neve: _____ Hangjelzés: _____

d) Jelzés neve: _____ Hangjelzés: _____

17. Hogyan adjuk a fenti kérdésben szereplő jelzéseket sötétben (eltérések)?

-Sötétben ezeket a jelzéseket _____ lámpával adjuk.

-A Megállj-jelzést azonban _____ lámpával adhatjuk.

-A Lassan-jelzésnél a lámpát _____ tartjuk.

18. Mit jelez a Biztonsági határjelző és hogyan néz ki?

A Biztonsági határjelző _____ azt a helyet jelöli meg,
amelyen _____ járművek nem
_____ járműveket.

A Biztonsági határjelző egy _____ [hogyan néz ki?].

19 A távolbalátás korlátozott, ha a napszaknak megfelelő jelzések _____

(pl.: _____, _____, _____ stb.) miatt nem láthatók _____.

A távolbalátás korlátozottsága esetén _____
jelzéseket kell alkalmazni.

A szabadlátás akkor korlátozott, ha a napszaknak megfelelő jelzések _____

(pl.: _____, _____, _____ stb.) miatt nem láthatók _____.

20. Milyen jelzőre utalnak az alábbi árbczínezések?

Vörös-fehér sávozású: _____

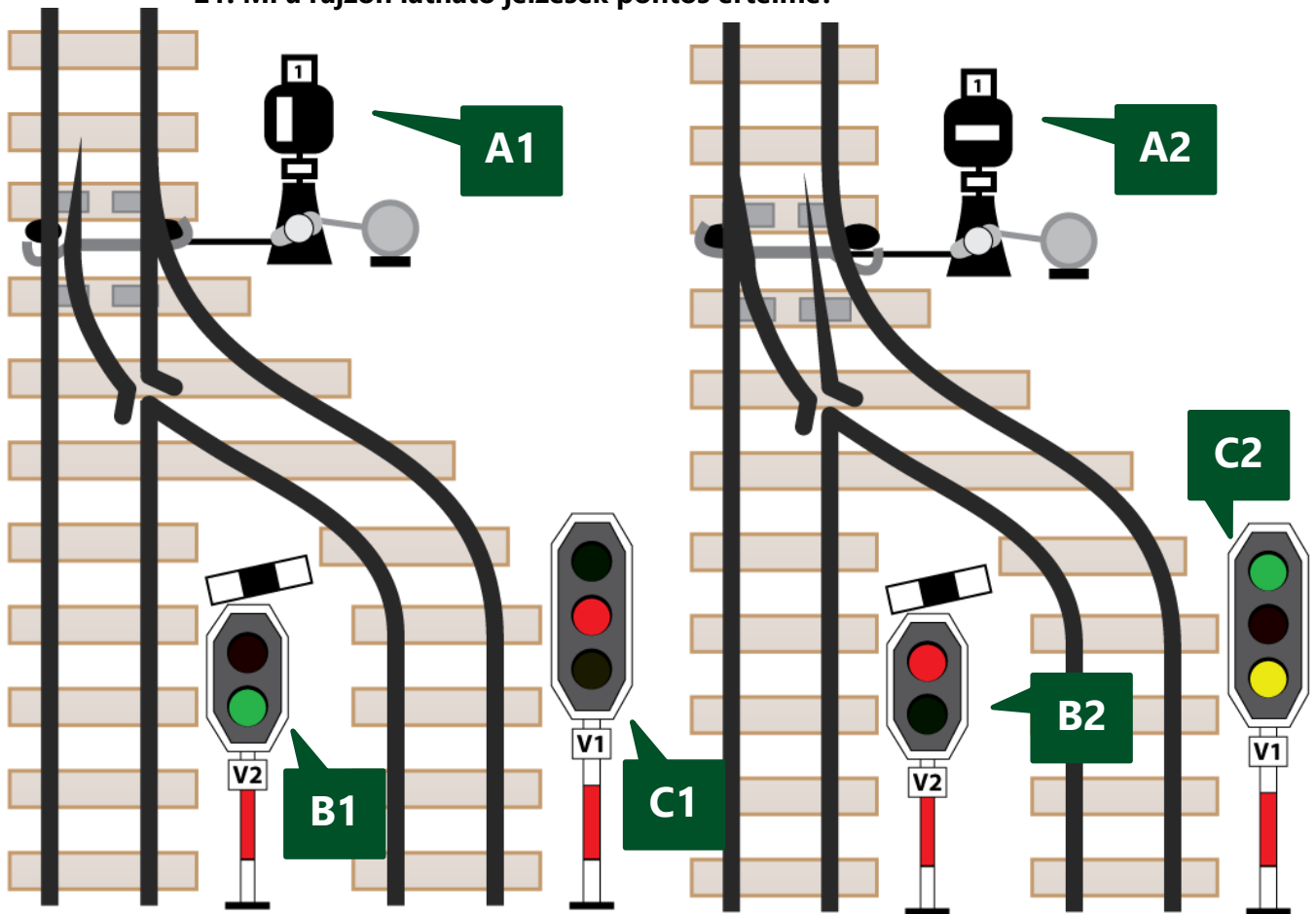
Sárga-fehér sávozású: _____

Kék-fehér sávozású: _____

Kék-fehér sávozású, a kék sáv fehér sávval megszakítva: _____

Vörös-fehér sávozású, a középső fehér sávot rézsútos irányú kék sáv szakítja meg: _____

21. Mi a rajzon látható jelzések pontos értelme?



Mi a rajzon „**A1**” jelű jelzés értelme? _____

Mi a rajzon „**A2**” jelű jelzés értelme? _____

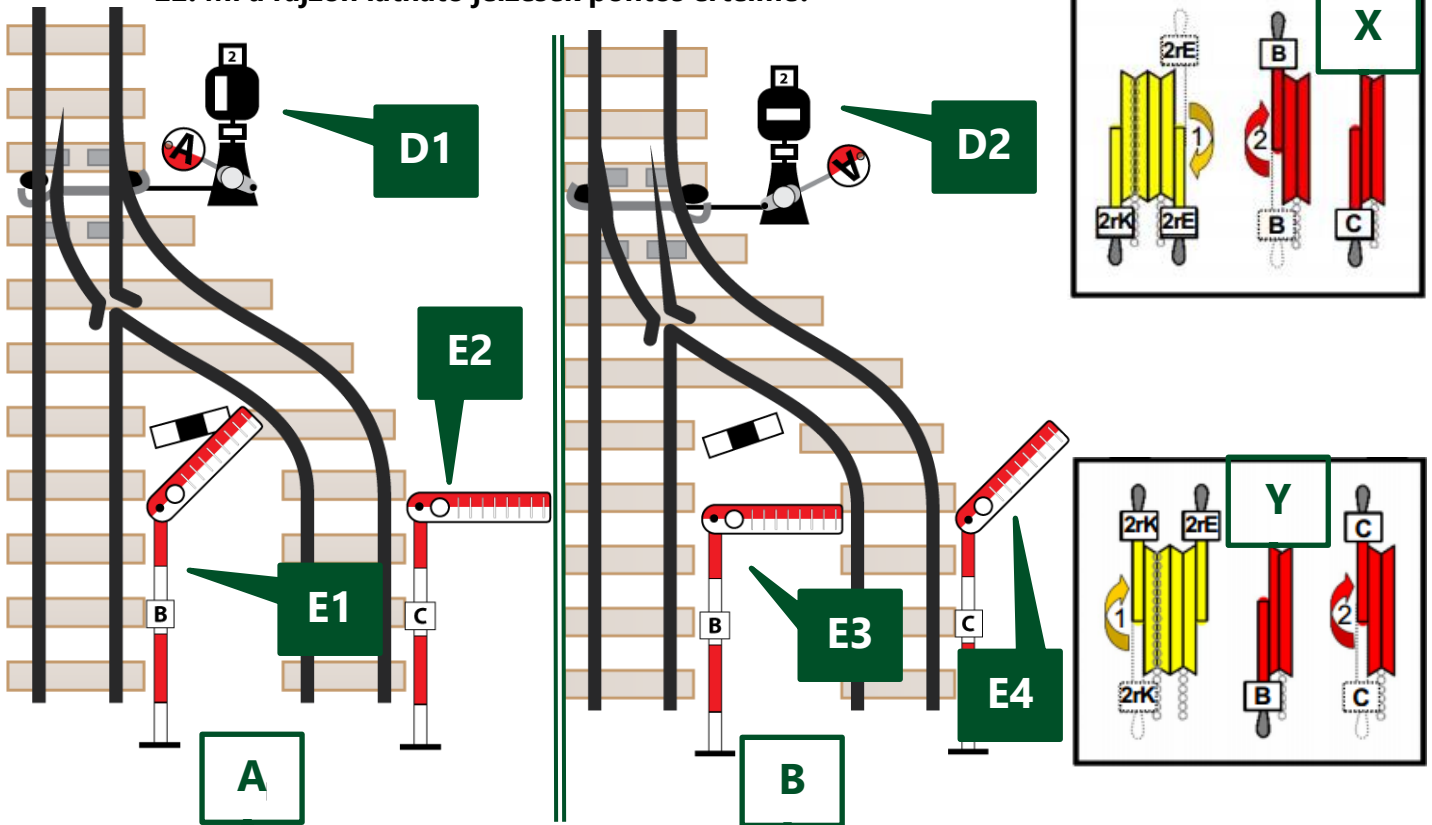
Mi a rajzon „**B1**” jelű jelzés értelme? _____

Mi a rajzon „**B2**” jelű jelzés értelme? _____

Mi a rajzon „**C1**” jelű jelzés értelme? _____

Mi a rajzon „**C2**” jelű jelzés értelme? _____

22. Mi a rajzon látható jelzések pontos értelme?



Mi a rajzon „D1” jelű jelzés értelme? _____

Mi a rajzon „D2” jelű jelzés értelme? _____

Mi a rajzon „E1” jelű jelzés értelme? _____

Mi a rajzon „E2” jelű jelzés értelme? _____

Mi a rajzon „E3” jelű jelzés értelme? _____

Mi a rajzon „E4” jelű jelzés értelme? _____

22B. Melyik biztosítóberendezési emeltyűhelyzet-változat (X vagy Y) melyik váltó- és jelzőállásra (A vagy B) utal? Párosítsd össze azokat és írd a megfelelő betűt (X vagy Y) a válaszba!

Az **A** betűvel jelölt jelzőállásra a(z) _____ jelű emeltyűhelyzet (**X** vagy **Y**) utal.

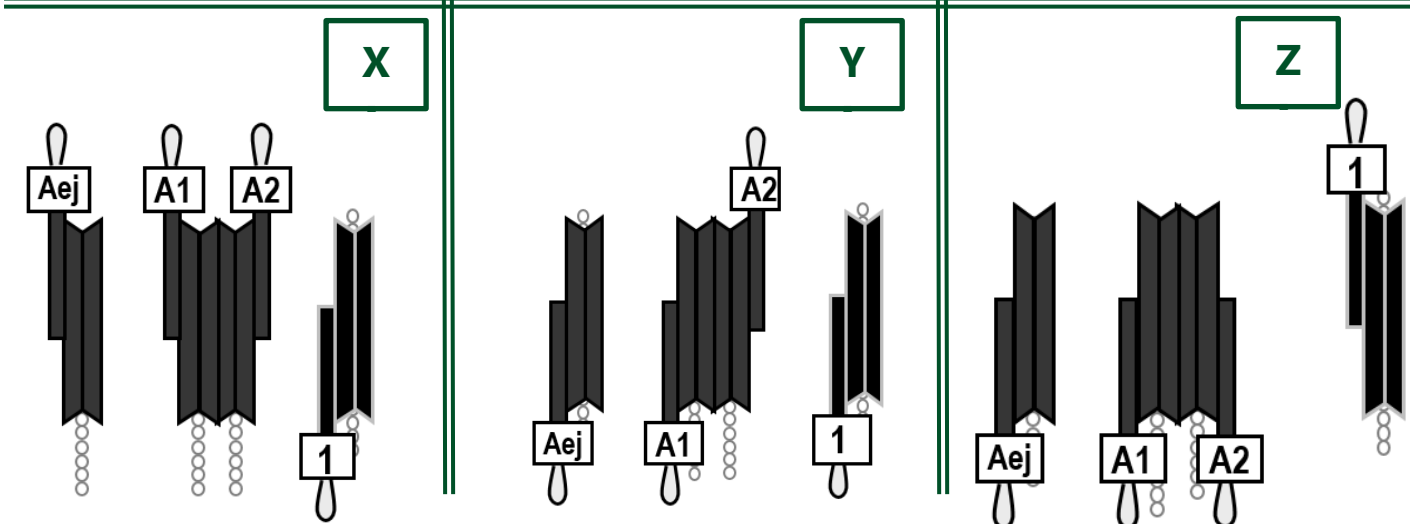
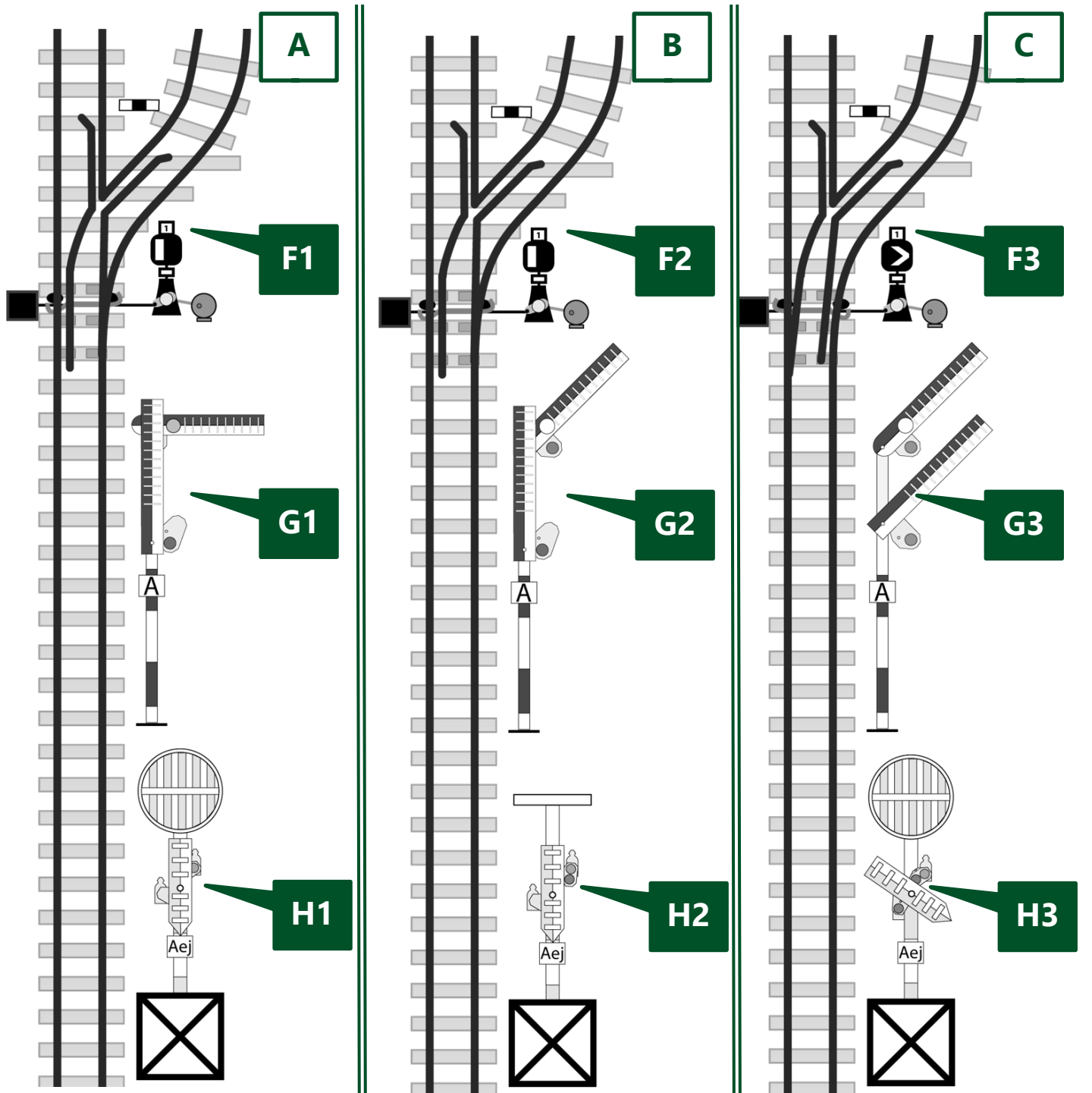
A **B** betűvel jelölt jelzőállásra a(z) _____ jelű emeltyűhelyzet (**X** vagy **Y**) utal.

23. A kijáratí jelzők utalnak-e a váltók állására és a kihaladás sebességére?

Az alak kijáratí jelzők nem jelzik _____

_____ a kihaladást.

24. Mi a rajzon látható jelzések pontos értelme?



Mi a rajzon „**F1**” jelű jelzés értelme? _____

Mi a rajzon „**F2**” jelű jelzés értelme? _____

Mi a rajzon „**F3**” jelű jelzés értelme? _____

Milyen színezésű a FŐJELZŐ árboca? _____

Mi a rajzon „**G1**” jelű jelzés értelme? _____

Mi a rajzon „**G2**” jelű jelzés értelme? _____

Mi a rajzon „**G3**” jelű jelzés értelme? _____

Milyen színezésű a ELŐJELZŐ árboca? _____

Mi a rajzon „**H1**” jelű jelzés értelme? _____

Mi a rajzon „**H2**” jelű jelzés értelme? _____

Mi a rajzon „**H3**” jelű jelzés értelme? _____

25. Melyik biztosítóberendezési emeltyűhelyzet-változat (X, Y vagy Z) melyik váltó- és jelzőállásra (A, B vagy C) utal?

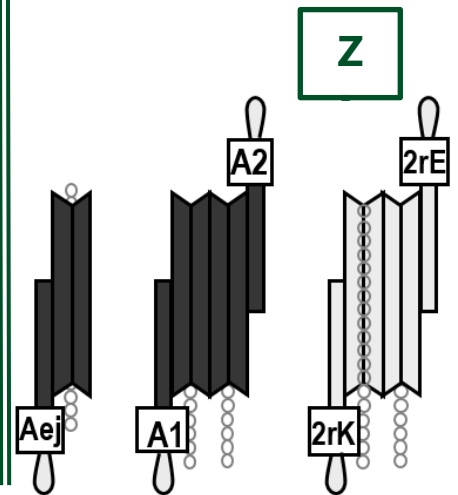
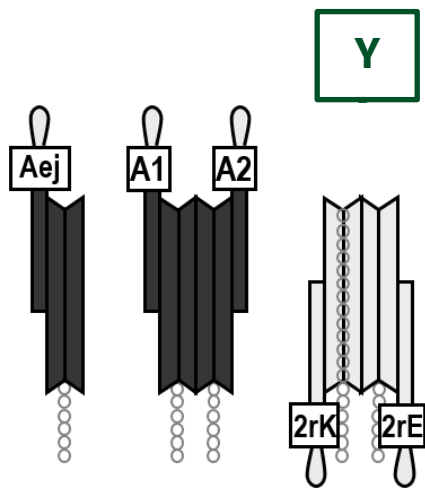
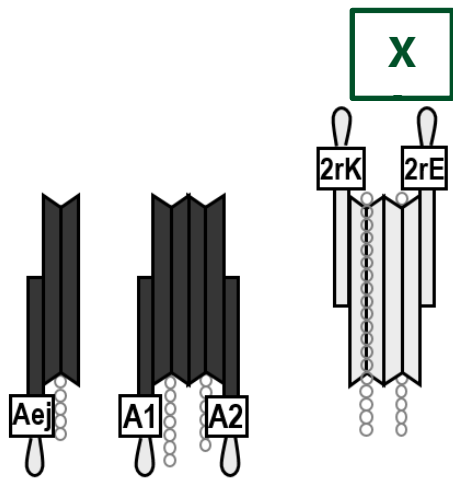
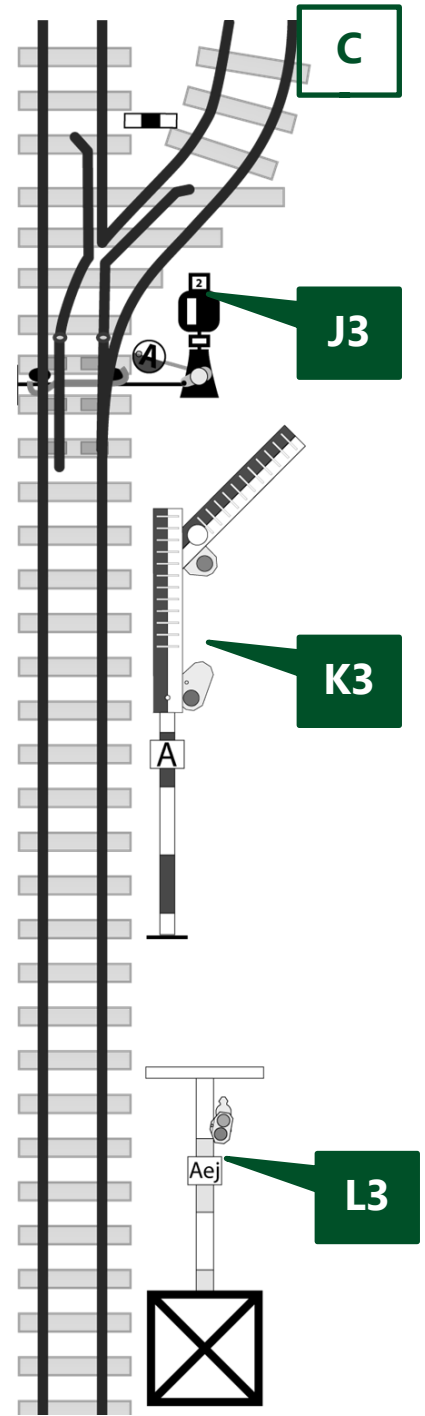
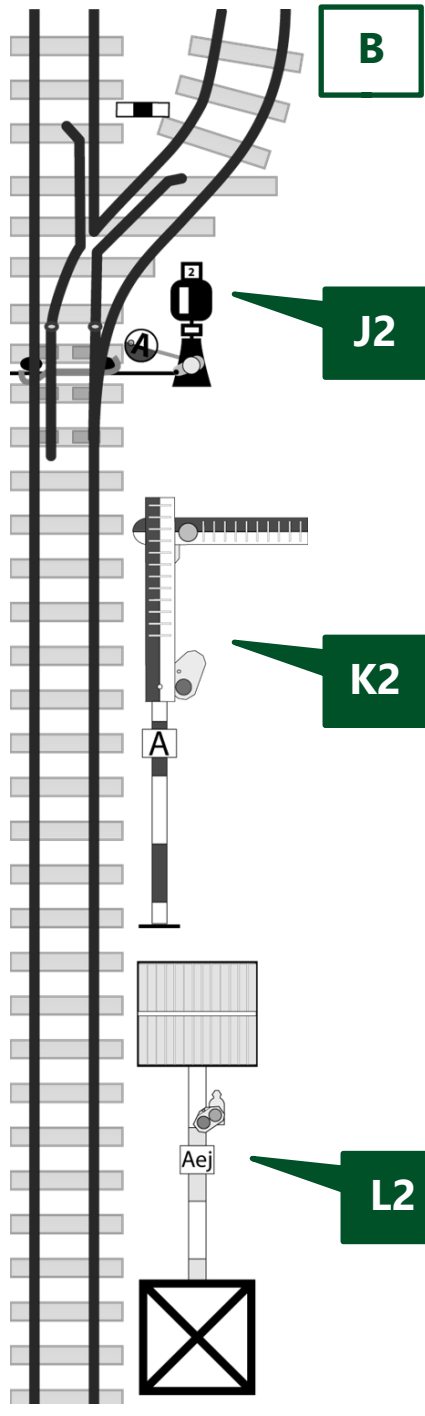
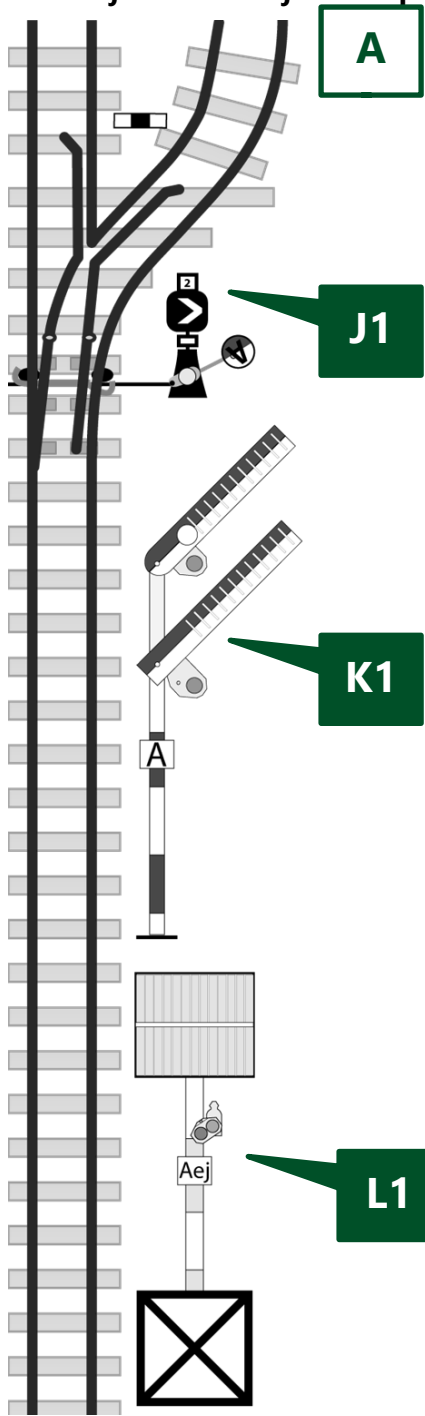
Párosítsd össze azokat és írd a megfelelő betűt (X, Y vagy Z) a válaszba!

Az **A** betűvel jelölt jelzőállásra a(z) ____ jelű emeltyűhelyzet (**X, Y** vagy **Z**) utal.

A **B** betűvel jelölt jelzőállásra a(z) ____ jelű emeltyűhelyzet (**X, Y** vagy **Z**) utal.

A **C** betűvel jelölt jelzőállásra a(z) ____ jelű emeltyűhelyzet (**X, Y** vagy **Z**) utal.

26. Mi a rajzon látható jelzések pontos értelme?



Mi a rajzon „**J1**” jelű jelzés értelme? _____

Mi a rajzon „**J2**” jelű jelzés értelme? _____

Mi a rajzon „**J3**” jelű jelzés értelme? _____

Mi a rajzon „**K1**” jelű jelzés értelme? _____

Mi a rajzon „**K2**” jelű jelzés értelme? _____

Mi a rajzon „**K3**” jelű jelzés értelme? _____

Mi a rajzon „**L1**” jelű jelzés értelme? _____

Mi a rajzon „**L2**” jelű jelzés értelme? _____

Mi a rajzon „**L3**” jelű jelzés értelme? _____

Milyen színezésű a FŐJELZŐ árboca? _____

Milyen színezésű a ELŐJELZŐ árboca? _____

27. Melyik biztosítóberendezési emeltyűhelyzet-változat (X, Y vagy Z) melyik váltó- és jelzőállásra (A, B vagy C) utal? Párosítsd össze azokat és írd a megfelelő betűt (X, Y vagy Z) a válaszba!

Az **A** betűvel jelölt jelzőállásra a(z) _____ jelű emeltyűhelyzet (**X, Y** vagy **Z**) utal.

A **B** betűvel jelölt jelzőállásra a(z) _____ jelű emeltyűhelyzet (**X, Y** vagy **Z**) utal.

A **C** betűvel jelölt jelzőállásra a(z) _____ jelű emeltyűhelyzet (**X, Y** vagy **Z**) utal.

29. A vágányútbeállítás elrendelésének szövege

a) Bejáró vonat esetén:

_____!

b) Kijáró vagy áthaladó vonat esetén, ha ellenvonat NINCS útban:

_____!

c) Kijáró vagy áthaladó vonat esetén, ha ellenvonat VAN útban:

_____!

30. Sorold fel (egészítsd ki) a vágányútbeállítás elrendelése után elvégzendő teendőket!

1. _____ -ellenőrzés
2. meggyőződik a _____
3. váltóállítás
4. _____
5. _____ (_____)
6. bejelentés
7. _____
8. _____ és _____
(_____)

31. A váltókat arra használjuk, hogy _____

A váltó általában akkor használható, ha:

- ▶ _____
- ▶▶ _____

- ▶ _____
- ▶ _____
- ▶ _____

- ▶ _____

(Ha nem jutnak eszedbe a váltó alkatrészei, nézd meg a 23-28. feladatnál látható váltót, hátha az segít!)

32. Hogyan kell meggyőződni a vonóvezetékek központból állított váltók használhatóságáról?

Ha állítás közben az állítóemeltyű _____
_____, *akkor a váltó használható.*

Ha a vonóvezetékes váltót nem kell állítani a használhatóságot _____

állapítjuk meg. Az állítóemeltyűt legalább _____

Ha az emeltyű _____
_____, *akkor a váltó használható a járművek terelésére.*

Lehetséges problémák:

Az állítóemeltyű túl könnyen mozog: _____

Az emeltyű túl nehezen mozog vagy nehezen, illetve egyáltalán nem csappantható be:

Az emeltyű a kicsappantás után azonnal megakad: _____

Ilyen esetekben a váltó _____

33. Milyen szöveggel kell bejelenteni a vágányútbeállítás elkészültét?

34. Mely esetekben kell a vonatot vészfékkel megállítani? (Példák!)

- _____ (pl.: ► _____
► _____ ► _____)
- _____
- _____

35. Ha a vonat szétszakad, vagy ha a mozdonyvezető Veszély-jelzést (a mozdonykürttel: •••••) ad, akkor a vonatkísérők kötelesek?

1. _____

2. _____

36. Mi az állomásnév bemondás célja?

_____ és _____

37. Ki meneszthet vonatot?

Vonatot meneszthet: **1.** _____

2. _____, *de csak* _____

A menesztésre adott felhatalmazás szövege:

„_____!”

38. Mikor adhatnak a vonatkísérők Indulásra-készen jelzést?

- _____
- _____
- _____

39. Milyen jelzést köteles adni a vonatkísérő, ha az indulásnak akadálya van?

_____ adni.

Mikor adhatja a vonatkísérő is a Vonatkísérők a helyükre-jelzést?

_____ adhatnak.

40. Mik a Felhívás az indításra-jelzés adásának feltételei?

- _____
- _____
- _____ - a felnőtt

41. Hogyan kell áthaladó vonatot meneszteni?

● A menesztést végző (hova áll?) ► _____ ► _____
_____ ► _____

● Meggyőződik (miről?) ► _____ és a ► _____
_____, majd a vonat felé ► _____ jelzést ad.

● A jelzés adását ► akkor kezdi, _____,
és ► _____ adja, ► amíg _____
_____.

42. Sorszámokkal jelöld a tevékenységek helyes sorrendjét megnevezésük előtt a vonalakon. (Egyet előre megadtunk.) A rendelkező teendői (általában) INDULÓ vonat esetén:

__ a szomszéd állomás rendelkezőjének indulási időközlést ad

__ meggyőződik a vágányút szabad voltáról

__ a kijárat vágányút beállítását elrendeli

2. a felnőtt dolgozók a tolatást beszüntetik

__ miután a vonat kihaladt, a kijárat jelzőt visszaállítja, a vágányutat feloldja

__ engedélyt kér a szomszéd állomás rendelkezőjétől a vonat indításához

__ a naplózót felhatalmazza a menesztésre

__ részt vesz a váltóellenőrzésben és tudomásul veszi a szabad kijárat bejelentését

__ állítja a kijárat jelzőt (vagy engedélyt ad az állítására)

43. Sorszámokkal jelöld a tevékenységek helyes sorrendjét a megnevezésük előtt a vonalakon! (Egyet előre megadtunk.) A rendelkező teendői általában, ÉRKEZŐ vonat esetén:

__ engedélyt ad a szomszéd állomás rendelkezőjének a vonat indításához

2. a felnőtt dolgozók a tolatást beszüntetik

__ állítja a bejárat jelzőt (vagy engedélyt ad a jelző állítására)

__ részt vesz a váltóellenőrzésben és tudomásul veszi a szabad bejárat bejelentését

__ a bejárat vágányút beállítását elrendeli

__ a vonat teljes behaladása után a bejárat jelzőt visszaállítja, a vágányutat feloldja

__ meggyőződik a vágányút szabad voltáról

__ utasítja a naplózót a vonat fogadására

__ visszajelentést ad a szomszéd állomás rendelkezőjének

__ tudomásul veszi az Indulási időközlést a szomszéd állomás rendelkezőjétől

44. Mikor kell a bejárat vágányút beállítását elrendelni?

Olyan időben, hogy az érkező vonatot _____

_____. Rövidebb menetidő esetén nem szabad

megvárni az _____, tehát a vágányút beállítását _____

_____.

45. Mit jelent az állomástávolságú követési rend?

Mikor kérhető engedély legkorábban az azonos irányú vonat részére?

Állomástávolságú követési rendben _____

A követő vonat részére engedély csak _____

Az alábbi szövegeket a menetrendábra alapján valóságalapú PÉLDA ADATOKKAL írjátok!

46. Az engedélykérés-adás szövege azonos irányú vonatok esetén:

Kérés: _____

Adás: _____

47. Az engedélykérés-adás szövege, ha ellenkező irányú vonat VAN útban:

Kérés: _____

Adás: _____

48. Az engedélykérés-adás szövege, ha az indítandó vonat előtt ellenkező irányú vonat VOLT útban:

Kérés: _____

Adás: _____

49. Az engedélymegtagadás szövege:

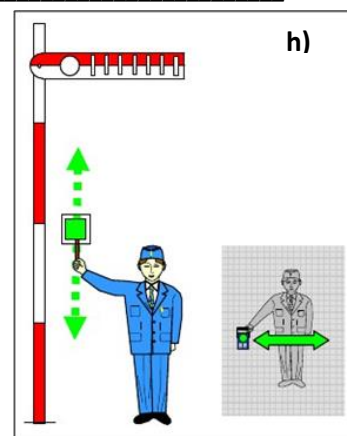
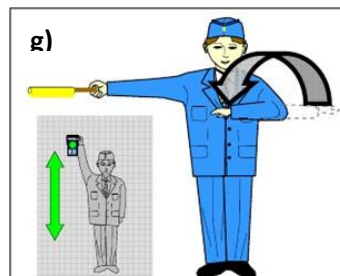
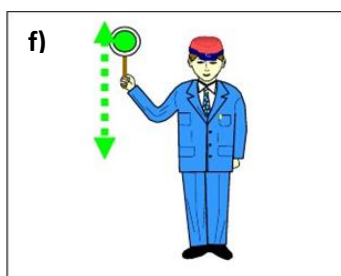
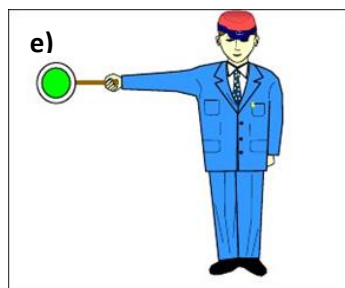
50. Indulási időközlés és az arra adandó válasz szövege:

51. Melyek a visszajelentés feltételei?

- _____
- _____
- _____

52. Visszajelentés és az arra adandó válasz szövege:

53. Írd a rajzokon látható kézjelzések alá a nevüket, hangjelzésüket!



a) Jelzés neve: _____ Hangjelzés: _____

b) Jelzés neve: _____ Hangjelzés: _____

c) Jelzés neve: _____ Hangjelzés: _____

Jelzés adása sötétben: _____

d) Jelzés neve: _____ Hangjelzés: _____

Jelzés adása sötétben: _____

Mit kell tudni a fenti (e-h) jelzések adásáról?

- *menesztés során testünkkel* _____

- *sötétben ezeket a jelzéseket* _____

- *a Felhívás-jelzés kiegészíthető* _____

54. Milyen jegy váltására jogosult az utas életkora alapján?

Jegy váltása nélkül	
Gyermekjegy	
Felnőtt jegy	

55. Mit kell tudni a kerékpárok és kutyák fuvarozásáról?

Ilyen esetekben _____ jegyet adunk ki.

-Kerékpárfuvarozás csak _____.

_____ nem szállítható.

-Kutyafuvarozás esetén _____ alkalmazása kötelező.

56. Milyen jeggyel szabad utazni a menetrend szerint közlekedő gőzvontatású nosztalgiavonatokon?

A gőzvontatású nosztalgiavonaton történő utazáshoz _____

_____ és

_____.

_____ csak akkor adható ki, ha az utas _____

_____, vagy az

_____.

57. Mikor érvényes általában a jegy?

● ha _____

● ha _____

● ha _____

● ha az utas _____ használatára.

59. Töltsd ki a táblázatot!

	<i>Családi napjegy</i>	<i>Tiszteletjegy</i>	<i>Utazási engedély</i>	<i>Igazolvány</i>
Érvényességi idő				Legfeljebb _____
Az utasok száma legfeljebb	- _____ és _____, vagy - _____ és _____	_____ _____ _____	_____ _____ _____	A _____
Indulás előtti teendők	_____ _____ _____	_____ _____ _____ _____	_____ _____ _____	_____ _____ _____ _____
Ki használja?	_____ _____	_____ _____	_____ _____	_____ _____ _____ _____
Nosztalgia pójtjegy				

58. Hogyan kezeljük jegyvizsgálatkor a különböző formátumú jegyeket?

- A jegyeket általában _____ kezeljük,
odafigyelve arra, hogy ne sérüljön ► _____ és
► az _____.
► Az átszállójegyeket _____

60. Milyen szabályokat kell betartani a jegyek kiadásakor?

1. Először közölni kell az utassal a _____.
2. Az átvett pénzt figyelmesen kell _____ és _____.
3. Ezután kell a _____ (_____ , _____)
_____ , _____)
4. A pénztáros a _____ előtt jelenteni köteles az
_____, ha az utas _____ fizet.
5. A _____ és a _____
_____ kell az utasnak _____.
6. Az átvett pénzt az asztalról _____ csak az utas
_____ szabad!

61. Mit kell tudni a gyermekcsoportok elszámolásáról?

A gyermekcsoportot kísérő _____,

ha _____

Ilyen esetekben _____

62. A gyermekvasút legfontosabb jellemzőinek értéke:

Jellemző	Érték
Nyomtávolság	
Pályasebesség	
Teljes menetidő	
Teljes vonalhossz	
Általános fékúttávolság	
Alagút hossza	
Végállomások közötti szintkülönbség	
Guinness rekord megszerzésének éve	

63. Milyen szabályok érvényesek a pénztári vagy jegyvizsgáló szolgálat során keletkezett fölös bevétel kezelésére?

- Fölöst _____, _____
_____ *kerülni kell.*

- Az utas részére a _____ pénzt _____ *át kell adni*
(az _____ *határáig*).

- Ha az utas a _____ pénzt _____ *kísérletre sem*
_____, *azt az* _____
(vonatkísérőknél _____) *azonnal* _____ *kell!*

A _____ *fölös számítási* _____ *minősül és*
az értékelésnél a _____ *rontja.*

- Leszámoláskor a _____ *valamennyi* _____
(*az esetleges* _____ *is*) _____.

- A bevétel egy részének _____ *csalásnak minősül.*

Összefoglalva tehát, teendők fölös esetén (két szóval):

_____ *és* _____

64. Építési szakaszok kezdő és végállomásokat, valamint az építési jellemző időpontjait írd a téglalapokba:

SZAKASZ	ÁLLOMÁSTÓL ÁLLOMÁSIG (RÉGI és ÚJ név is)	ÉPÍTÉS KEZDETE	ÉPÍTÉS VÉGE
első			
második		----	
harmadik		----	

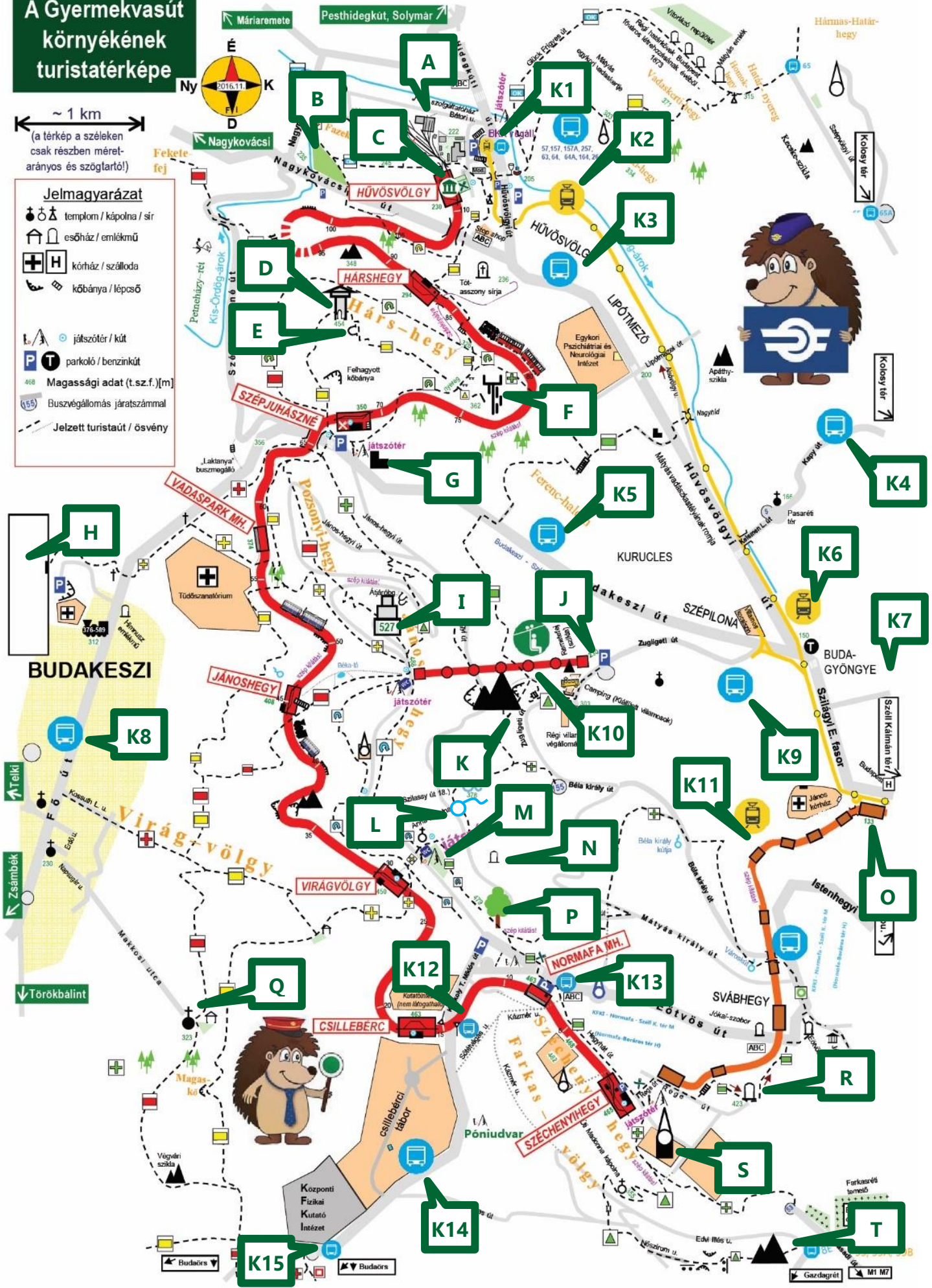
A Gyermeivasút környékének turistatérképe

~ 1 km
(a térkép a széleken csak részben méretarányos és szögeltartó!)

Jelmagyarázat

- templom / kápolna / sír
- esőház / emlékmű
- kórház / szálloda
- kőbánya / lépcső

- játszótér / kút
- parkoló / benzinkút
- Magassági adat (t.sz.f.) [m]
- Buszvégállomás járatszámmal
- Jelzett turistaut / ösvény



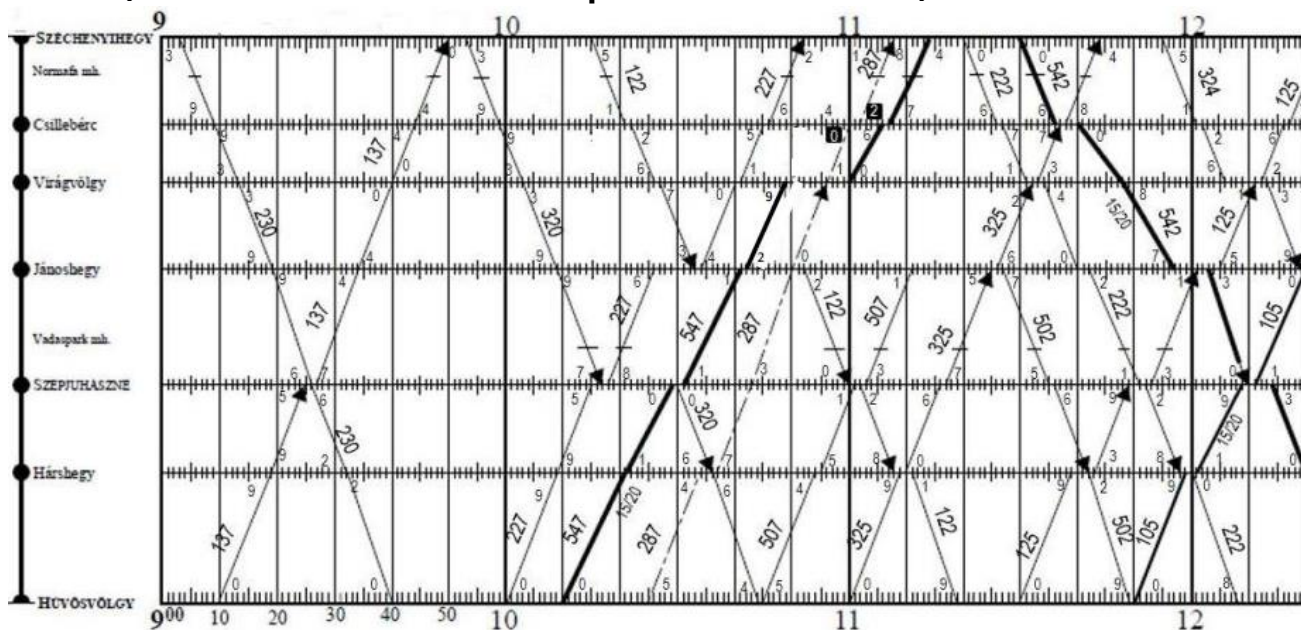
65. Írd a térképen betűkkel megjelölt nevezetességek nevét a megfelelő betűjelzés mellé!

A. _____	L. _____
B. _____	M. _____
C. _____	N. _____
D. _____	O. _____
E. _____	P. _____
F. _____	Q. _____
G. _____	R. _____
H. _____	S. _____
I. _____	T. _____
J. _____	
K. _____	

Írd a „K” betűvel és számmal jelölt közlekedési kapcsolatokat a megfelelő jelölés mellé!

K1. _____	K9. _____
K2. _____	K10. _____
K3. _____	K11. _____
K4. _____	K12. _____
K5. _____	K13. _____
K6. _____	K14. _____
K7. _____	K15. _____
K8. _____	

66. Olvasd le a menetrend szerinti adatokat a menetrendábráról, majd írd azokat a kérdések után! (Ha a kért adat nem szerepel, akkor azt húzd ki!)



Írd ide, hogy hány percnként vannak meghúzva a függőleges vonalak? _____ percnként

A 137 sz.v. Szépjuhászné áll.-on érkezik: _____ ó. _____ p., indul: _____ ó. _____ p., vagy áthalad: _____ ó. _____ p.

A 230 sz.v. Vadaspark mh-en megáll-e? _____ A 230 sz.v. Normafa mh-en megáll-e? _____

A 137 sz.v. Csillebérc áll.-on érkezik: _____ ó. _____ p., indul: _____ ó. _____ p., vagy áthalad: _____ ó. _____ p.

A 547 sz.v. Hárshegy áll.-on érkezik: _____ ó. _____ p., indul: _____ ó. _____ p., vagy áthalad: _____ ó. _____ p.

A 122 sz.v. Jánoshegy áll.-on érkezik: _____ ó. _____ p., indul: _____ ó. _____ p., vagy áthalad: _____ ó. _____ p.

A 287 sz.v. Csillebérc áll.-on érkezik: _____ ó. _____ p., indul: _____ ó. _____ p., vagy áthalad: _____ ó. _____ p.

67. Írd a meghatározások mellé a menetdíjak és egyéb díjak összegét, valamint írd oda a színkódokat is!

Jegy	Ár	Színkód
Felnőtt MENETJEGY egyszeri utazásra	_____ Ft	
Gyermek MENETJEGY egyszeri utazásra	_____ Ft	
Felnőtt ÁTSZÁLLÓJEGY kétszeri utazásra	_____ Ft	
Gyermek ÁTSZÁLLÓJEGY kétszeri utazásra	_____ Ft	
Családi napijegy	_____ Ft	
Felnőtt nosztalgia pótijegy	_____ Ft	
Gyermek nosztalgia pótijegy	_____ Ft	
Kerékpár és kutya menetjegy	_____ Ft	

68. Mit kell tudni a menetjegyek és átszállójegyek viszonylati érvényességéről?

A menetjeggyel _____
(_____).

Az átszállójeggyel _____

Átszállójegyet csak akkor szabad _____
_____ .

A Munkafüzetet a **Segédlet TEAM** tagjai készítették. Reméljük, hogy hasznodra válik a vizsgára való felkészülés során. Ha bármilyen észrevételed van a füzetrel kapcsolatban, kérjük, juttasd el nekünk a sihuu.com/szakmai oldal alján található űrlap segítségével!

Segédlet TEAM: Váczi Viktor, Szente Dávid,
Kaliszky Zsolt, Drexler Márton, Blum Norbert.



A vizgára a Gyermekvasutas Ellenőrződöt és a gyermekvasutas Igazolványodat is hozd magaddal!