

SZAKMAI MUNKAFÜZET



1. Melyik az idei vizsgaidőszak legutolsó kijelölt napja?	3
2. Mi a nevelőtanári iroda telefonszáma?	3
3. A vizsgaidőszakban hány alkalommal lehet javító vizsgát írni?	3
4. Mit kell teljesíteni az alábbi vizsgaminősítésekhez?.....	3
5. Mit kell magával hoznia a vizsgázónak a vizsga termébe?.....	3
6. Hogyan ellenőrzik a gyermekvasutasok iskolai tanulmányi eredményét?.....	3
8. Milyen felszerelésekkel kell szolgálatra jelentkezni?.....	4
9. Miért „veszélyes üzem” a vasút?	4
10. A kötelező felszerelésen kívül miket vihetnek fel szolgálatba a pajtások.....	5
11. Mikor kell felpróbálni a ruhatárból kiadott egyenruha részeit?.....	5
12. Töltsd ki a táblázatot!.....	6
13. Az állomásközi távbeszélőn milyen hívójeleket használunk?.....	6
14. A biztosító berendezések legfontosabb feladata	6
15. Mikor kezelhet gyermekvasutas pajtás önhatalmúlag ólomzárral lezárható, / számlálóval ellátott nyomógombot?.....	6
16. Mikor szabad az alak főjelzők emeltyűjét visszaállítani és a váltókat feloldani a vonat közlekedése után?.....	7
17. A váltózárlatcsok jelölése.....	7
18. Írd az emeltyűk megnevezése mellé a színét!.....	7
19. Mi a rajzon látható jelzések pontos értelme?	7
20. A tolatásjelző emeltyű.....	7
21. Mi a jelzés rendeltetése (jelzés parancs elve)?.....	7
22. Írd a rajzokon látható kézijelzések alá (a megf. helyre) a nevüket, hangjelzésüket!	8
23. Hogyan adjuk a fenti kérdésben szereplő jelzéseket sötétben (eltérések)?.....	8
24. Mit jelez a Biztonsági határjelző és hogyan néz ki?	8
25. A távolbalátás korlátozott és a A szabadlátás akkor korlátozott.....	9
26. Milyen jelzőre utalnak az alábbi árbocszínezések?	9
27. Mi a rajzon látható jelzések pontos értelme?	10
28. Mi a rajzon látható jelzések pontos értelme?	12
29. A kijárat jelzők utalnak-e a váltók állására és a kihaladás sebességére?	12
30. Mi a rajzon látható jelzések pontos értelme?	13
32. Mi a rajzon látható jelzések pontos értelme?	15
35. A vágányútbeállítás elrendelésének szövege.....	17
36. Sorold fel (egészítsd ki) a vágányútbeállítás elrendelése után elvégzendő teendőket!.....	17
37. A váltókat arra használjuk, hogy.....	17
38. Hogyan kell meggyőződni a vonóvezetékkel központból állított váltók használhatóságáról?.....	18
39. Mely esetekben kell a vonatot vészfékkel megállítani? (Példák!).....	18
40. Veszély-jelzés.....	18
41. Mi az állomásnév bemondás célja?.....	18
42. Ki meneszthet vonatot?.....	19
43. Mikor adhatnak a vonatkísérők Indulásra-készen jelzést?	19
44. Milyen jelzést köteles adni a vonatkísérő, ha az indulásnak akadálya van?.....	19
45. Mik a Felhívás az indításra-jelzés adásának feltételei?.....	19
46. Hogyan kell áthaladó vonatot meneszteni?.....	20
47. A vágányútbeállítás bejelentésének szövege.....	20
48-49. A rendelkező teendői általában.....	21
50. Mikor kell a bejárat vágányút beállítását elrendelni?	21
51. Mit jelent az állomástávolságú követési rend?	21
52. Az engedélykérés-adás szövege azonos irányú vonatok esetén:.....	22
53. Az engedélykérés-adás szövege, ha ellenkező irányú vonat VAN útban:.....	22
54. Az engedélykérés-adás szövege, ha az indítandó vonat előtt ellenkező irányú vonat VOLT útban:.....	22
55. Az engedélymegtagadás szövege:.....	22
55. Indulási időközlés és az arra adandó válasz szövege:.....	22
57. Melyek a visszajelentés feltételei?.....	22
58. Visszajelentés és az arra adandó válasz szövege:.....	23
59. Írd a rajzokon látható kézijelzések alá a nevüket, hangjelzésüket!.....	23
60. Milyen jegy váltására jogosult az utas életkora alapján?	23
61. Mit kell tudni a kerékpárok és kutyák fuvarozásáról?.....	24
62. Milyen jeggyel szabad utazni a menetrend szerinti közlekedő gőzvonatúsú nosztalgia vonatokon?.....	24
63. Mikor érvényes általában a jegy?	24
65. Töltsd ki a táblázatot!.....	25
64. Hogyan kezeljük jegyvizsgálatkor a különböző formátumú jegyeket?.....	26
66. Milyen szabályokat kell betartani a jegyek kiadásakor?	26
67. Mit kell tudni a gyermekcsoportok elszámolásáról?.....	27
68. A gyermekvasút legfontosabb jellemzőinek értéke:.....	27
69. Milyen szabályok érvényesek a pénztári vagy jegyvizsgáló szolgálat során keletkezett fölös bevétel kezelésére?	28
70. Építési szakaszok kezdő és végállomásokat, valamint az építési jellemző időpontjait írd a téglalapokba:.....	28
71. Írd a térképen betűkkel megjelölt nevezetességek nevét a megfelelő betűjelzés mellé!.....	30
72. Olvasd le a menetrend szerinti adatokat a menetrendábráról, majd írd azokat a kérdések.....	31
73. Írd a meghatározások mellé a menetdíjak és egyéb díjak összegét, valamint írd oda a.....	31
74. Mit kell tudni a menetjegyek és átszállójegyek viszonylati érvényességéről?.....	32
75. A MÁV alkalmazásban megvásárolható gyermekvasúti jegyfajták	32

1. Melyik az idei vizsgaidőszak legutolsó kijelölt napja? _____.

2. Mi a nevelőtanári iroda telefonszáma? _____ - _____

3. A vizsgaidőszakban hány alkalommal lehet javító vizsgát írni?

A gyermekvasutasok javítási szándékkal _____

előző vizsga eredménye _____ válik.

4. Mit kell teljesíteni az alábbi vizsgaminősítésekhez?

Megfelelt: _____

Kiválóan megfelelt: _____

5. Mit kell magával hoznia a vizsgázónak a vizsga termébe?

• _____

• _____

• _____

6. Hogyan ellenőrzik a gyermekvasutasok iskolai tanulmányi eredményét?

A félévi értesítőt _____ ,

az év végi bizonyítványt _____ .

7. Milyen tanulmányi eredményt várunk el a gyermekvasutasoktól?

A tanulmányi átlagot _____

5-ösnek számolják.

A 3,5-4,0 közötti átlag esetén _____

A 3,5 alatti átlag esetén _____

Aki valamilyen tantárgyból a követelményt nem teljesítette (megbukott), _____

8. Milyen felszerelésekkel kell szolgálatra jelentkezni?

A felszereléseket a gyermekvasutas _____!

Tilos _____!

▶ _____

▶ _____

▷ _____

▷ _____

▷ _____

▶ _____

▶ _____

▶ _____

▶ _____

9. A) Miért „veszélyes üzem” a vasút?

• _____ (nem megszokott) _____

• _____ (figyelmetlenség, félreértés) _____

9. B) Mit nem szabad sohasem (a balesetek megelőzése érdekében)?

☒ _____ ☒ _____

☒ _____

☒ _____

☒ _____

☒ _____

☒ _____

☒ _____

☒ _____

☒ _____

9. C) Tilos továbbá bárhol és bármikor:

Vasúti pályán → _____, → _____, → _____ -a kijelölt helyeken kívül

Vasúti → _____ felmenni, → _____ bemenni, → _____ fölött tartózkodni

Vasúti → _____, _____ felmászni, → _____ oszlophoz hozzáérni

10. A kötelező felszerelésen kívül miket vihetnek fel szolgálatba a pajtások

_____.

▶ _____ ▶ _____ ▶ _____

▶ _____

● _____

● _____

● _____

● _____

11. Mikor kell felpróbálni a ruhatárból kiadott egyenruha részeit?

A ruhatárból kapott egyenruha _____

_____ fel kell próbálni.

12. Töltsd ki a táblázatot!

<i>Állomás neve</i>	<i>Régi neve</i>	<i>Betű-jel</i>	<i>Hívójel</i>	<i>Bizt. Ber. Típusa</i>
<i>Széchenyihegy</i>				
<i>Virágvölgy</i>				
<i>Szépjuhászné</i>				
<i>Jánoshegy</i>				
<i>Csillebérc</i>				
<i>Hárshegy</i>				
<i>Hűvösvölgy</i>				

13. Az állomásközi távbeszélőn milyen hívójeleket használunk?

Az **állomás közti távbeszélő** hívójele attól függ, hogy _____ vagy _____ vonatot küldünk abba az irányba, amerre telefonálni szeretnénk.

_____ csengetéssel hívjuk azt az állomást, amelyik felé _____ számú vonatot indítunk.

_____ csengetéssel hívjuk azt az állomást, amelyik felé _____ számú vonatot indítunk.

A visszacsengetés _____ szerint történik.

14. A biztosító berendezések legfontosabb feladata, hogy _____ _____ ami azt jelenti, hogy

1: a jelzőt csak akkor lehet „szabad” állásba állítani, _____

2: amíg a jelző „szabad” állásban van, _____

15. Mikor kezelhet gyermekvasutas pajtás önhatalmúlag ólomzárral lezárható, vagy számlálóval ellátott nyomógombot?

_____, mert
_____.

Ezalól egyetlen kivétel van: _____ kezelheti.

16. Mikor szabad az alak főjelzők emeltyűjét visszaállítani és a váltókat feloldani a vonat közlekedése (be-illetve kihaladása) után?

_____.

17. A váltózárkulcsok jelölése

A kör alakú kulcstábla _____ irányba lezárt váltó kulcsán van.

A négyszögletes kulcstábla _____ irányba lezárt váltó kulcsán van.

18. Írd az emeltyűk megnevezése mellé a színét!

A főjelzők és előjelzők emeltyűje _____ színű. A váltóállító emeltyű _____ színű.

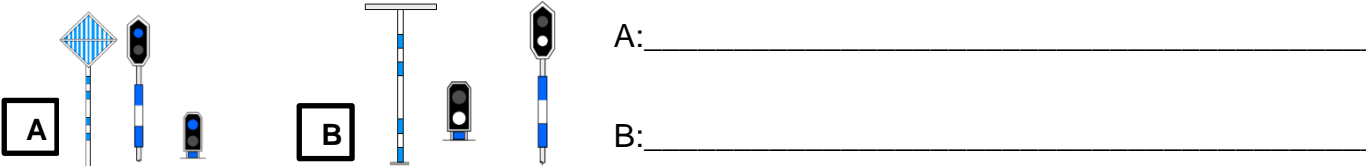
A reteszemeltyű _____ színű. A tolatásjelző emeltyűje _____ színű.

Milyen helyzetben áll a váltóállító emeltyű a különböző irányokban?

Az emeltyű alsó helyzetében a váltó _____ irányban áll.

Az emeltyű felső helyzetében a váltó _____ irányban áll.

19. Mi a rajzon látható jelzések pontos értelme?



20. A tolatásjelző emeltyű alsó helyzetében a tolatásjelző „_____” jelzést mutat.

A tolatásjelző emeltyű felső helyzetében a tolatásjelző „_____” jelzést mutat.

21. Mi a jelzés rendeltetése (jelzés parancs elve)?

A jelzés _____. A jelzés _____

_____ (pajtásoknak és felnőtt

dolgozóknak) valamilyen _____

_____ végrehajtására. A jelzések _____

kapcsolatot létesítenek a _____ között.

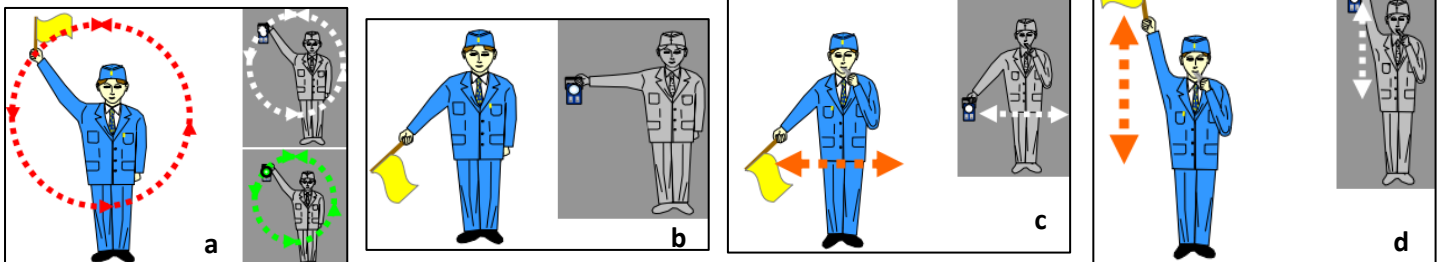
A mások által adott kézi jelzéseket ► _____ és ► _____

közben is _____ ● _____ kell és egymás jelzését

(hogyan?) _____ ● _____

a (ki?) _____ felé.

22. Írd a rajzokon látható kézijelzések alá (a megf. helyre) a nevüket, hangjelzésüket!



a) Jelzés neve: _____ Hangjelzés: _____

b) Jelzés neve: _____ Hangjelzés: _____

c) Jelzés neve: _____ Hangjelzés: _____

d) Jelzés neve: _____ Hangjelzés: _____

23. Hogyan adjuk a fenti kérdésben szereplő jelzéseket sötétben (eltérések)?

-Sötétben ezeket a jelzéseket _____ lámpával adjuk.

-A Megállj-jelzést azonban _____ lámpával adhatjuk.

-A Lassan-jelzésnél a lámpát _____ tartjuk.

24. Mit jelez a Biztonsági határjelző és hogyan néz ki?

A Biztonsági határjelző _____ azt a helyet jelöli meg,

amelyen _____ járművek nem

_____ járműveket.

A Biztonsági határjelző egy _____ [hogyan néz ki?].

25 A távolbalátás korlátozott, ha a napszaknak megfelelő jelzések _____

(pl.: _____ , _____ , _____ stb.) miatt nem láthatók _____.

A távolbalátás korlátozottsága esetén _____
jelzéseket kell alkalmazni.

A szabadlátás akkor korlátozott, ha a napszaknak megfelelő jelzések _____

(pl.: _____ , _____ , _____ stb.) miatt nem láthatók _____.

26. Milyen jelzőre utalnak az alábbi árbozcínezesek?

Vörös-fehér sávozású: _____

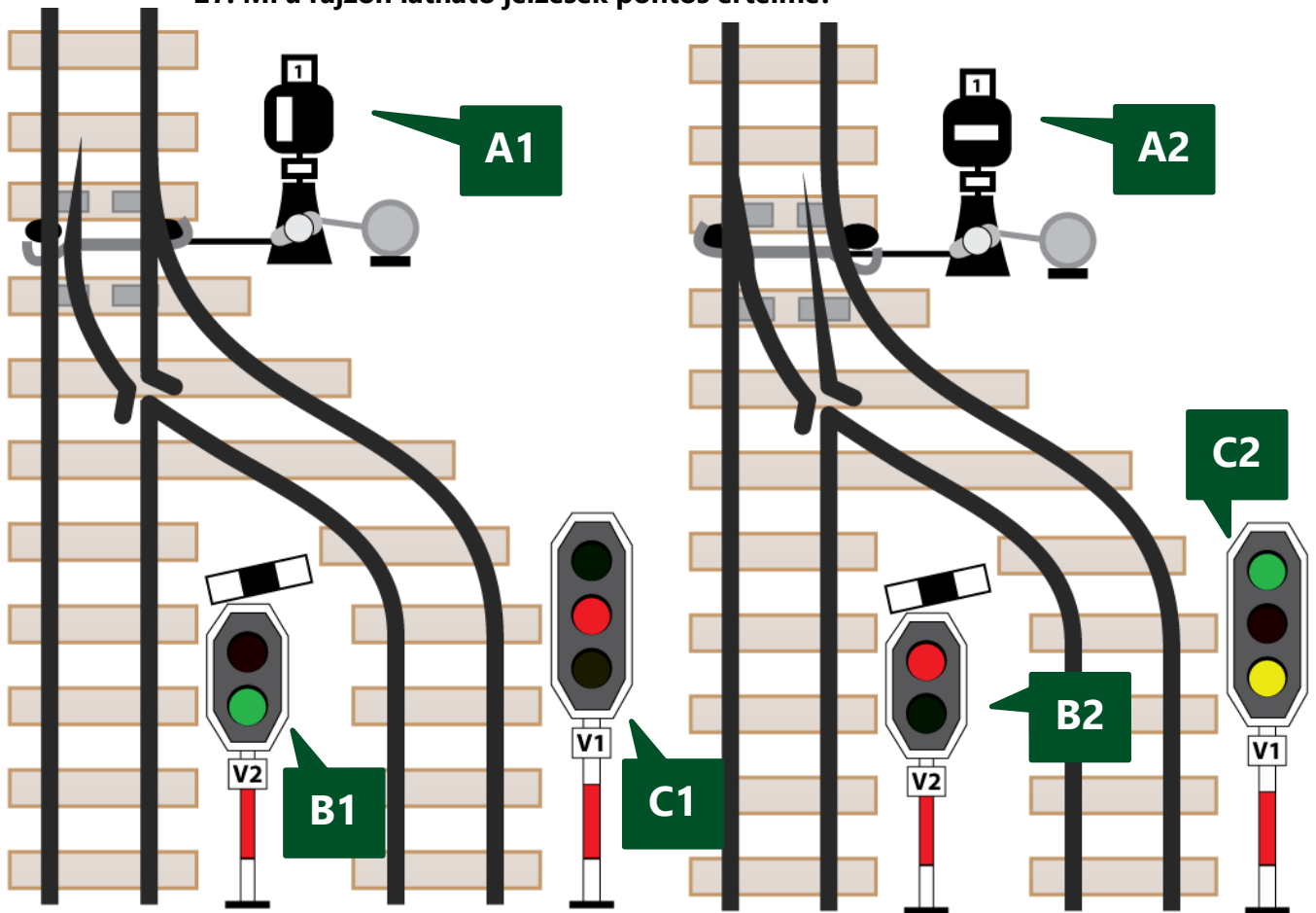
Sárga-fehér sávozású: _____

Kék-fehér sávozású: _____

Kék-fehér sávozású, a kék sáv fehér sávval megszakítva: _____

Vörös-fehér sávozású, a középső fehér sávot rézsútos irányú kék sáv szakítja meg: _____

27. Mi a rajzon látható jelzések pontos értelme?



Mi a rajzon „**A1**” jelű jelzés értelme? _____

Mi a rajzon „**A2**” jelű jelzés értelme? _____

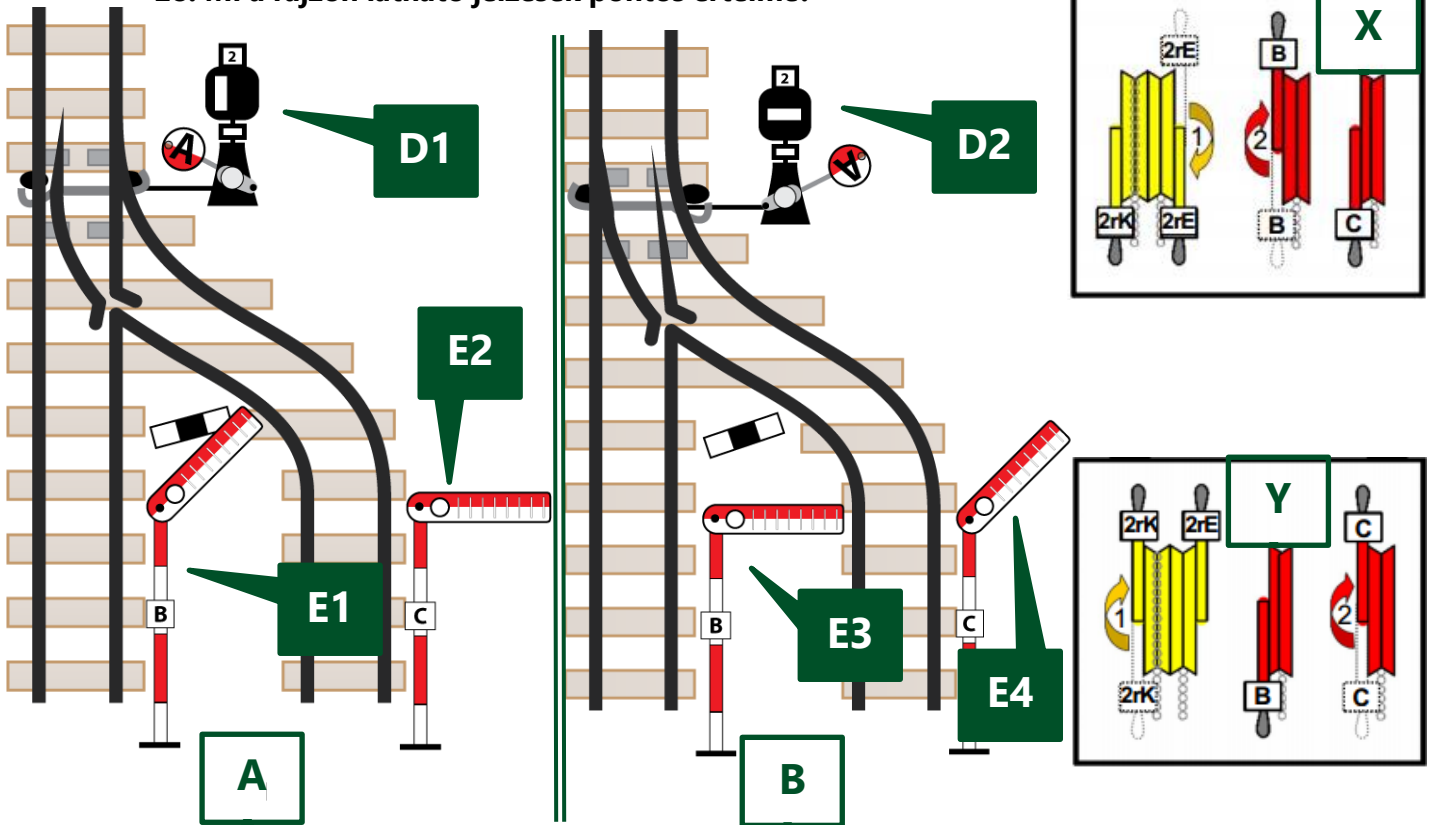
Mi a rajzon „**B1**” jelű jelzés értelme? _____

Mi a rajzon „**B2**” jelű jelzés értelme? _____

Mi a rajzon „**C1**” jelű jelzés értelme? _____

Mi a rajzon „**C2**” jelű jelzés értelme? _____

28. Mi a rajzon látható jelzések pontos értelme?



Mi a rajzon „D1” jelű jelzés értelme? _____

Mi a rajzon „D2” jelű jelzés értelme? _____

Mi a rajzon „E1” jelű jelzés értelme? _____

Mi a rajzon „E2” jelű jelzés értelme? _____

Mi a rajzon „E3” jelű jelzés értelme? _____

Mi a rajzon „E4” jelű jelzés értelme? _____

28B. Melyik biztosítóberendezési emeltyűhelyzet-változat (X vagy Y) melyik váltó- és jelzőállásra (A vagy B) utal? Párosítsd össze azokat és írd a megfelelő betűt (X vagy Y) a válaszba!

Az **A** betűvel jelölt jelzőállásra a(z) _____ jelű emeltyűhelyzet (**X** vagy **Y**) utal.

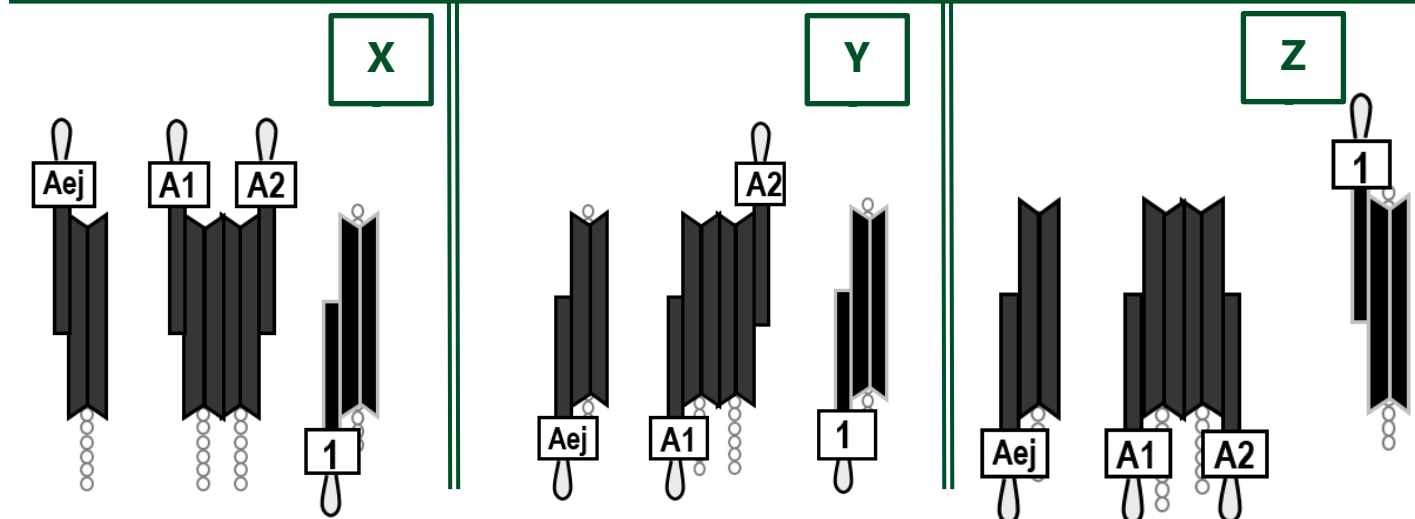
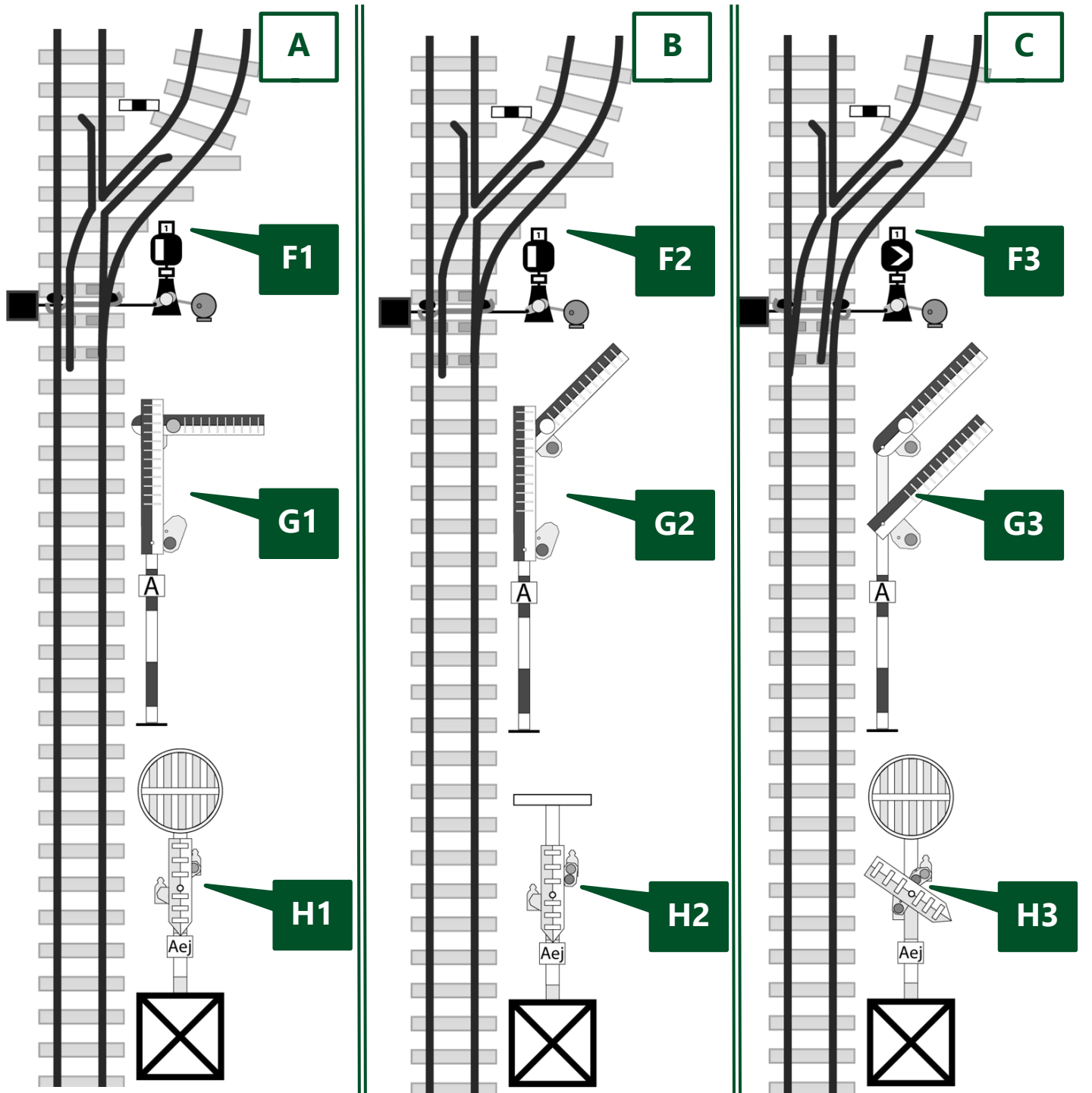
A **B** betűvel jelölt jelzőállásra a(z) _____ jelű emeltyűhelyzet (**X** vagy **Y**) utal.

29. A kijárat i jelzők utalnak-e a váltók állására és a kihaladás sebességére?

Az alak kijárat i jelzők nem jelzik _____

_____ a kihaladást.

30. Mi a rajzon látható jelzések pontos értelme?



Mi a rajzon „**F1**” jelű jelzés értelme? _____

Mi a rajzon „**F2**” jelű jelzés értelme? _____

Mi a rajzon „**F3**” jelű jelzés értelme? _____

Milyen színezésű a FŐJELZŐ árboca? _____

Mi a rajzon „**G1**” jelű jelzés értelme? _____

Mi a rajzon „**G2**” jelű jelzés értelme? _____

Mi a rajzon „**G3**” jelű jelzés értelme? _____

Milyen színezésű a ELŐJELZŐ árboca? _____

Mi a rajzon „**H1**” jelű jelzés értelme? _____

Mi a rajzon „**H2**” jelű jelzés értelme? _____

Mi a rajzon „**H3**” jelű jelzés értelme? _____

31. Melyik biztosítóberendezési emeltyűhelyzet-változat (X, Y vagy Z) melyik váltó- és jelzőállásra (A, B vagy C) utal?

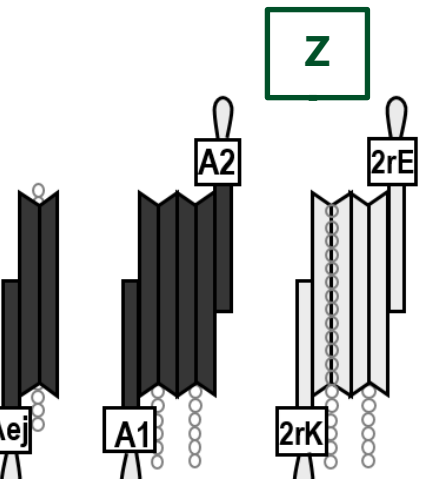
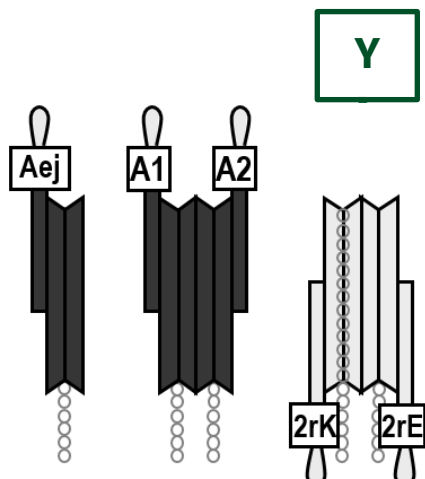
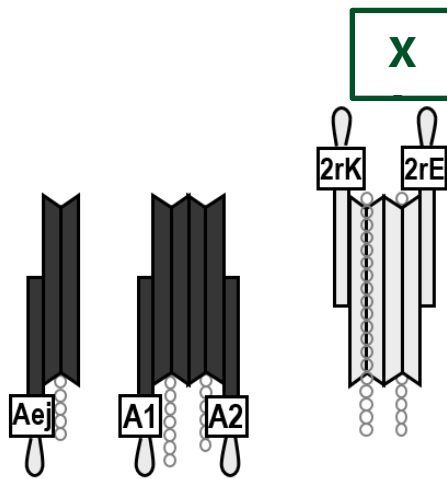
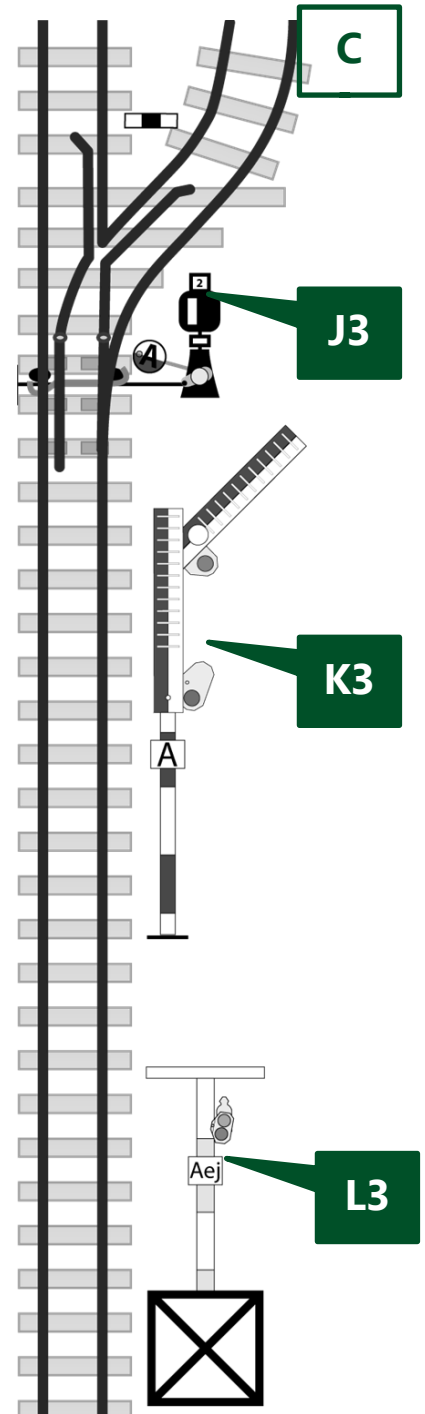
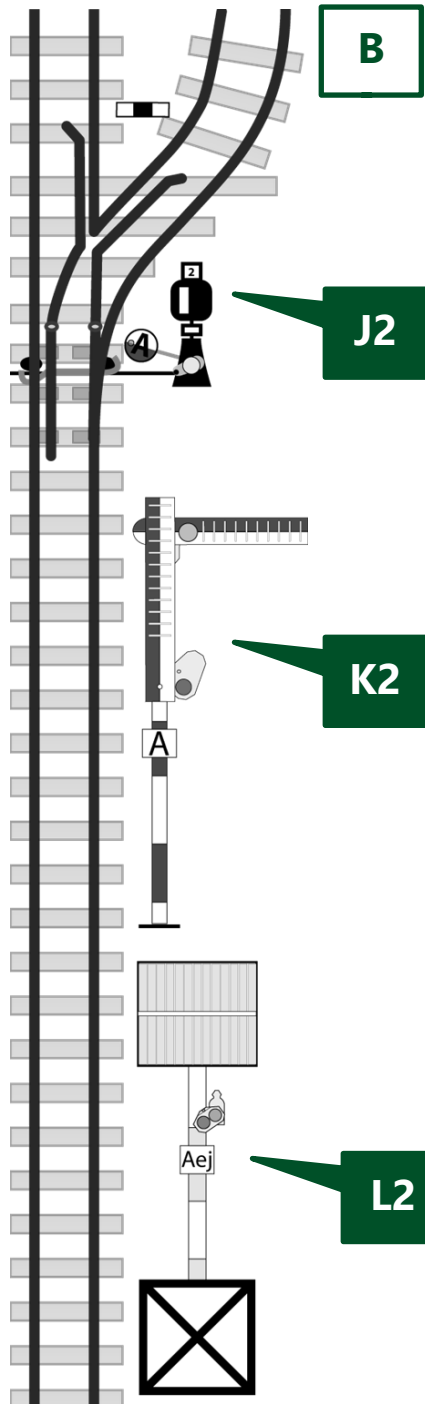
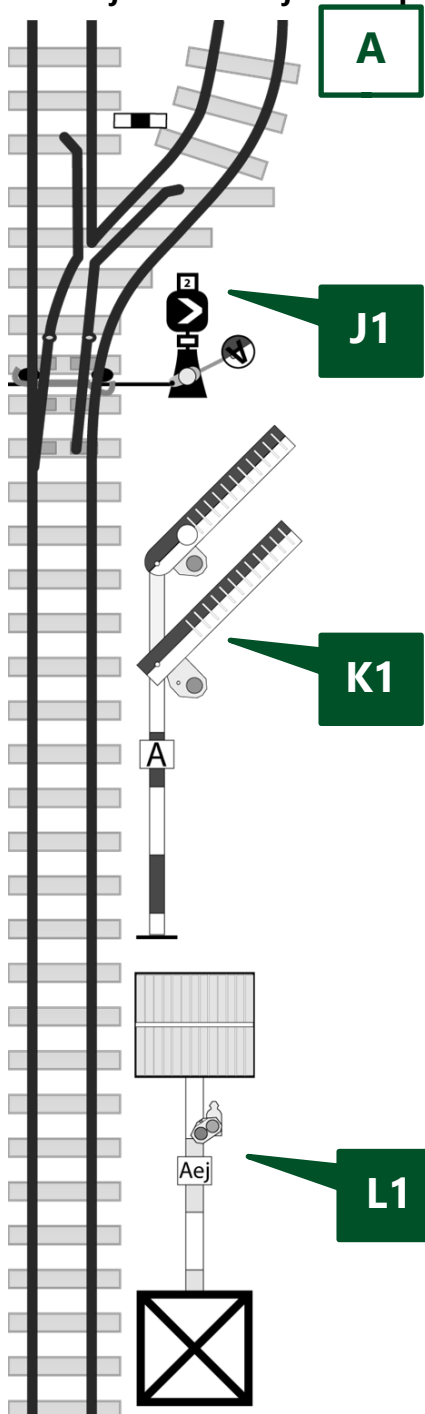
Párosítsd össze azokat és írd a megfelelő betűt (X, Y vagy Z) a válaszba!

Az **A** betűvel jelölt jelzőállásra a(z) ____ jelű emeltyűhelyzet (**X, Y** vagy **Z**) utal.

A **B** betűvel jelölt jelzőállásra a(z) ____ jelű emeltyűhelyzet (**X, Y** vagy **Z**) utal.

A **C** betűvel jelölt jelzőállásra a(z) ____ jelű emeltyűhelyzet (**X, Y** vagy **Z**) utal.

32. Mi a rajzon látható jelzések pontos értelme?



Mi a rajzon „**J1**” jelű jelzés értelme? _____

Mi a rajzon „**J2**” jelű jelzés értelme? _____

Mi a rajzon „**J3**” jelű jelzés értelme? _____

Mi a rajzon „**K1**” jelű jelzés értelme? _____

Mi a rajzon „**K2**” jelű jelzés értelme? _____

Mi a rajzon „**K3**” jelű jelzés értelme? _____

Mi a rajzon „**L1**” jelű jelzés értelme? _____

Mi a rajzon „**L2**” jelű jelzés értelme? _____

Mi a rajzon „**L3**” jelű jelzés értelme? _____

Milyen színezésű a FŐJELZŐ árboca? _____

Milyen színezésű a ELŐJELZŐ árboca? _____

33. Melyik biztosítóberendezési emeltyűhelyzet-változat (X, Y vagy Z) melyik váltó- és jelzőállásra (A, B vagy C) utal? Párosítsd össze azokat és írd a megfelelő betűt (X, Y vagy Z) a válaszba!

Az **A** betűvel jelölt jelzőállásra a(z) _____ jelű emeltyűhelyzet (**X, Y** vagy **Z**) utal.

A **B** betűvel jelölt jelzőállásra a(z) _____ jelű emeltyűhelyzet (**X, Y** vagy **Z**) utal.

A **C** betűvel jelölt jelzőállásra a(z) _____ jelű emeltyűhelyzet (**X, Y** vagy **Z**) utal.

35. A vágányútbeállítás elrendelésének szövege

a) Bejáró vonat esetén:

_____!

b) Kijáró vagy áthaladó vonat esetén, ha ellenvonat NINCS útban:

_____!

c) Kijáró vagy áthaladó vonat esetén, ha ellenvonat VAN útban:

_____!

36. Sorold fel (egészítsd ki) a vágányútbeállítás elrendelése után elvégzendő teendőket!

1. _____ -ellenőrzés
2. meggyőződik a _____
3. váltóállítás
4. _____
5. _____ (_____)
6. bejelentés
7. _____
8. _____ és _____
(_____)

37. A váltókat arra használjuk, hogy _____

A váltó általában akkor használható, ha:

- ▶ _____
- ▶▶ _____
- _____
- ▶ _____
- ▶ _____
- ▶ _____
- _____
- ▶ _____

(Ha nem jutnak eszedbe a váltó alkatrészei, nézd meg a 23-28. feladatnál látható váltót, hátha az segít!)

38. Hogyan kell meggyőződni a vonóvezetékek központból állított váltók használhatóságáról?

Ha állítás közben az állítóemeltyű _____
_____, ÉS _____, akkor a váltó használható.

Ha a vonóvezetékes váltót nem kell állítani a használhatóságot _____

állapítjuk meg. Az állítóemeltyűt legalább _____

Ha az emeltyű _____

_____, akkor a váltó használható a járművek terelésére.

Lehetséges problémák:

Az állítóemeltyű túl könnyen mozog: _____

Az emeltyű túl nehezen mozog vagy nehezen, illetve egyáltalán nem csappantható be:

Az emeltyű a kicsappantás után azonnal megakad: _____

Ilyen esetekben a váltó _____

39. Mely esetekben kell a vonatot vészfékkel megállítani? (Példák!)

- _____ (pl.: ► _____
► _____ ► _____)
- _____
- _____

40. Ha a vonat szétszakad, vagy ha a mozdonyvezető Veszély-jelzést (a mozdonykürttel: •••••) ad, akkor a vonatkísérők kötelesek?

1. _____

2. _____

41. Mi az állomásnév bemondás célja?

_____ és _____

42. Ki meneszthet vonatot?

Vonatot meneszthet: **1.** _____

2. _____, *de csak* _____

A menesztésre adott felhatalmazás szövege:

„_____!”

43. Mikor adhatnak a vonatkísérők Indulásra-készen jelzést?

- _____
- _____
- _____

44. Milyen jelzést köteles adni a vonatkísérő, ha az indulásnak akadályja van?

_____ adni.

Mikor adhatja a vonatkísérő is a Vonatkísérők a helyükre-jelzést?

_____ adhatnak.

Hol kell tartózkodniuk a vonatkísérőknek indulás előtt? _____

45. Mik a Felhívás az indításra-jelzés adásának feltételei?

- _____
- _____
- _____ - *a felnőtt*

46. Hogyan kell áthaladó vonatot meneszteni?

● A menesztést végző (hova áll?) ► _____ ► _____
_____ ► _____

● Meggyőződik (miről?) ► _____ és a ► _____
_____, majd a vonat felé ► _____ jelzést ad.

● A jelzés adását ► akkor kezdi, _____,
és ► _____ adja, ► amíg _____.

47. A vágányútbeállítás bejelentésének szövege

48. Sorszámokkal jelöld a tevékenységek helyes sorrendjét megnevezésük előtt a vonalakon. (Egyet előre megadtunk.) A rendelkező teendői (általában) INDULÓ vonat esetén:

__ a szomszéd állomás rendelkezőjének
indulási időközlést ad

__ meggyőződik a vágányút szabad voltáról

__ a kijárat vágányút beállítását elrendeli

2. a felnőtt dolgozók a tolatást beszüntetik

__ miután a vonat kihaladt, a kijárat jelzőt
visszaállítja, a vágányutat feloldja

__ engedélyt kér a szomszéd állomás
rendelkezőjétől a vonat indításához

__ a naplózót felhatalmazza a menesztésre

__ részt vesz a váltóellenőrzésben és tudomásul
veszi a szabad kijárat bejelentését

__ állítja a kijárat jelzőt
(vagy engedélyt ad az állítására)

**49. Sorszámokkal jelöld a tevékenységek helyes sorrendjét a megnevezésük előtt a vonalakon!
(Egyet előre megadtunk) A rendelkező teendői általában, ÉRKEZŐ vonat esetén:**

__ engedélyt ad a szomszéd állomás rendelkezőjének a vonat indításához

2. a felnőtt dolgozók a tolatást beszüntetik

__ állítja a bejárat jelzőt (vagy engedélyt ad a jelző állítására)

__ részt vesz a váltóellenőrzésben és tudomásul veszi a szabad bejárat bejelentését

__ a bejárat vágányút beállítását elrendeli

__ a vonat teljes behaladása után a bejárat jelzőt visszaállítja, a vágányutat feloldja

__ meggyőződik a vágányút szabad voltáról

__ utasítja a naplózót a vonat fogadására

__ visszajelentést ad a szomszéd állomás rendelkezőjének

__ tudomásul veszi az Indulási időközlést a szomszéd állomás rendelkezőjétől

50. Mikor kell a bejárat vágányút beállítását elrendelni?

Olyan időben, hogy az érkező vonatot _____

_____. Rövidebb menetidő esetén nem szabad

megvárni az _____, tehát a vágányút beállítását _____

_____.

51. Mit jelent az állomástávolságú követési rend?

Mikor kérhető engedély legkorábban az azonos irányú vonat részére?

Állomástávolságú követési rendben _____

_____.

A követő vonat részére engedély csak _____

_____.

Az alábbi szövegeket a menetrendábra alapján valóságalapú PÉLDA ADATOKKAL írjátok!

52. Az engedélykérés-adás szövege azonos irányú vonatok esetén:

Kérés: _____

Adás: _____

53. Az engedélykérés-adás szövege, ha ellenkező irányú vonat VAN útban:

Kérés: _____

Adás: _____

54. Az engedélykérés-adás szövege, ha az indítandó vonat előtt ellenkező irányú vonat VOLT útban:

Kérés: _____

Adás: _____

55. Az engedélymegtagadás szövege:

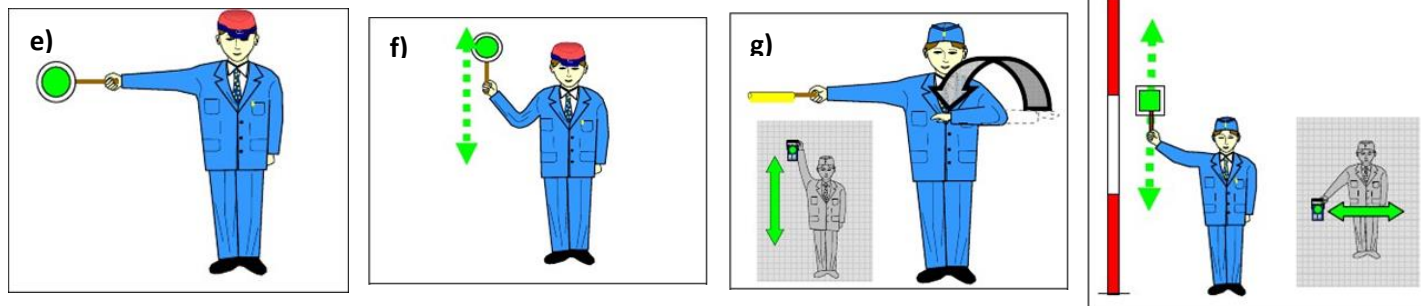
55. Indulási időközlés és az arra adandó válasz szövege:

57. Melyek a visszajelentés feltételei?

- _____
- _____
- _____

58. Visszajelentés és az arra adandó válasz szövege:

59. Írd a rajzokon látható kézijelzések alá a nevüket, hangjelzésüket!



a) Jelzés neve: _____ Hangjelzés: _____

b) Jelzés neve: _____ Hangjelzés: _____

c) Jelzés neve: _____ Hangjelzés: _____

Jelzés adása sötétben: _____

d) Jelzés neve: _____ Hangjelzés: _____

Jelzés adása sötétben: _____

Mit kell tudni a fenti (e-h) jelzések adásáról?

- *menesztés során testünkkel* _____

- *sötétben ezeket a jelzéseket* _____

- *a Felhívás-jelzés kiegészíthető* _____

60. Milyen jegy váltására jogosult az utas életkora alapján?

Jegy váltása nélkül	
Gyermekjegy	
Felnőtt jegy	

61. Mit kell tudni a kerékpárok és kutyák fuvarozásáról?

Ilyen esetekben _____ jegyet adunk ki.

-Kerékpárfuvarozás csak _____ .

_____ nem szállítható.

-Kutyafuvarozás esetén _____ alkalmazása kötelező.

62. Milyen jeggyel szabad utazni a menetrend szerint közlekedő gőzvontatású nosztalgiavonatokon?

A gőzvontatású nosztalgiavonaton történő utazáshoz _____

_____ és

_____ .

_____ csak akkor adható ki, ha az utas _____

_____ , vagy az

_____ .

63. Mikor érvényes általában a jegy?

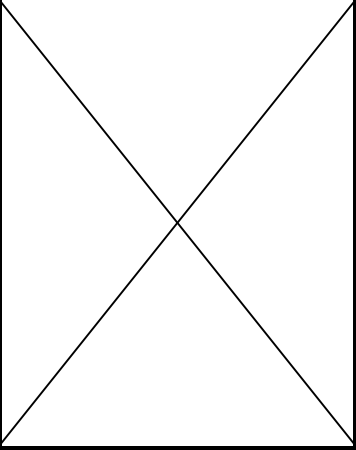
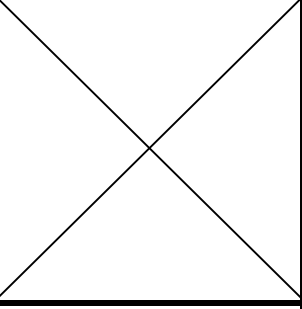
● ha _____

● ha _____

● ha _____

● ha az utas _____ használatára.

65. Töltsd ki a táblázatot!

	<i>Családi napjegy</i>	<i>Tiszteletjegy</i>	<i>Utazási engedély</i>	<i>Igazolvány</i>
Érvényességi idő				Legfeljebb _____
Az utasok száma legfeljebb	- _____ és _____, vagy - _____ és _____	_____		A _____
Indulás előtti teendők	_____ _____ _____ _____	_____ _____ _____ _____	_____ _____ _____	
Ki használja?	_____ _____	_____ _____		_____ _____ _____ _____
Nosztalgia pójtjegy				

64. Hogyan kezeljük jegyvizsgálatkor a különböző formátumú jegyeket?

- A jegyeket általában _____ kezeljük,
odafigyelve arra, hogy ne sérüljön ► _____ és

► az _____ .

► Az átszállójegyeket _____ ,

► A MÁV alkalmazásban mobiltelefonon bemutatott gyermekvasúti napjegyeknél

66. Milyen szabályokat kell betartani a jegyek kiadásakor?

1. Először közölni kell az utassal a _____ .

2. Az átvett pénzt figyelmesen kell _____ és _____ .

3. Ezután kell a _____ (_____ ,
_____ , _____)

4. A _____ és a _____
_____ kell az utasnak _____ .

5. Az átvett pénzt az asztalról _____ csak az utas
_____ szabad!

67. Mit kell tudni a gyermekcsoportok elszámolásáról?

A gyermekcsoportot kísérő _____ ,

ha _____

Ilyen esetekben _____

68. A gyermekvasút legfontosabb jellemzőinek értéke:

Jellemző	Érték
Nyomtávolság	
Pályasebesség	
Teljes menetidő	
Teljes vonalhossz	
Általános fékúttávolság	
Alagút hossza	
Végállomások közötti szintkülönbség	
Guinness rekord megszerzésének éve	

69. Milyen szabályok érvényesek a pénztári vagy jegyvizsgáló szolgálat során keletkezett fölös bevétel kezelésére?

- Fölöst _____ , _____
_____ *kerülni kell.*

- Az utas részére a _____ pénzt _____ át kell adni
(az _____ határáig).

- Ha az utas a _____ pénzt _____ kísérletre sem
_____, azt az _____
(vonatkísérőknél _____) azonnal _____ kell!

A _____ fölös számítási _____ minősül és
az értékelésnél a _____ rontja.

- Leszámoláskor a _____ valamennyi _____
(az esetleges _____ is) _____ .

- A bevétel egy részének _____ csalásnak minősül.

Összefoglalva tehát, teendők fölös esetén (két szóval):

_____ és _____

70. Építési szakaszok kezdő és végállomásokat, valamint az építési jellemző időpontjait írd a téglalapokba:

SZAKASZ	ÁLLOMÁSTÓL ÁLLOMÁSIG (RÉGI és ÚJ név is)	ÉPÍTÉS KEZDETE	ÉPÍTÉS VÉGE
első			
második		----	
harmadik		----	

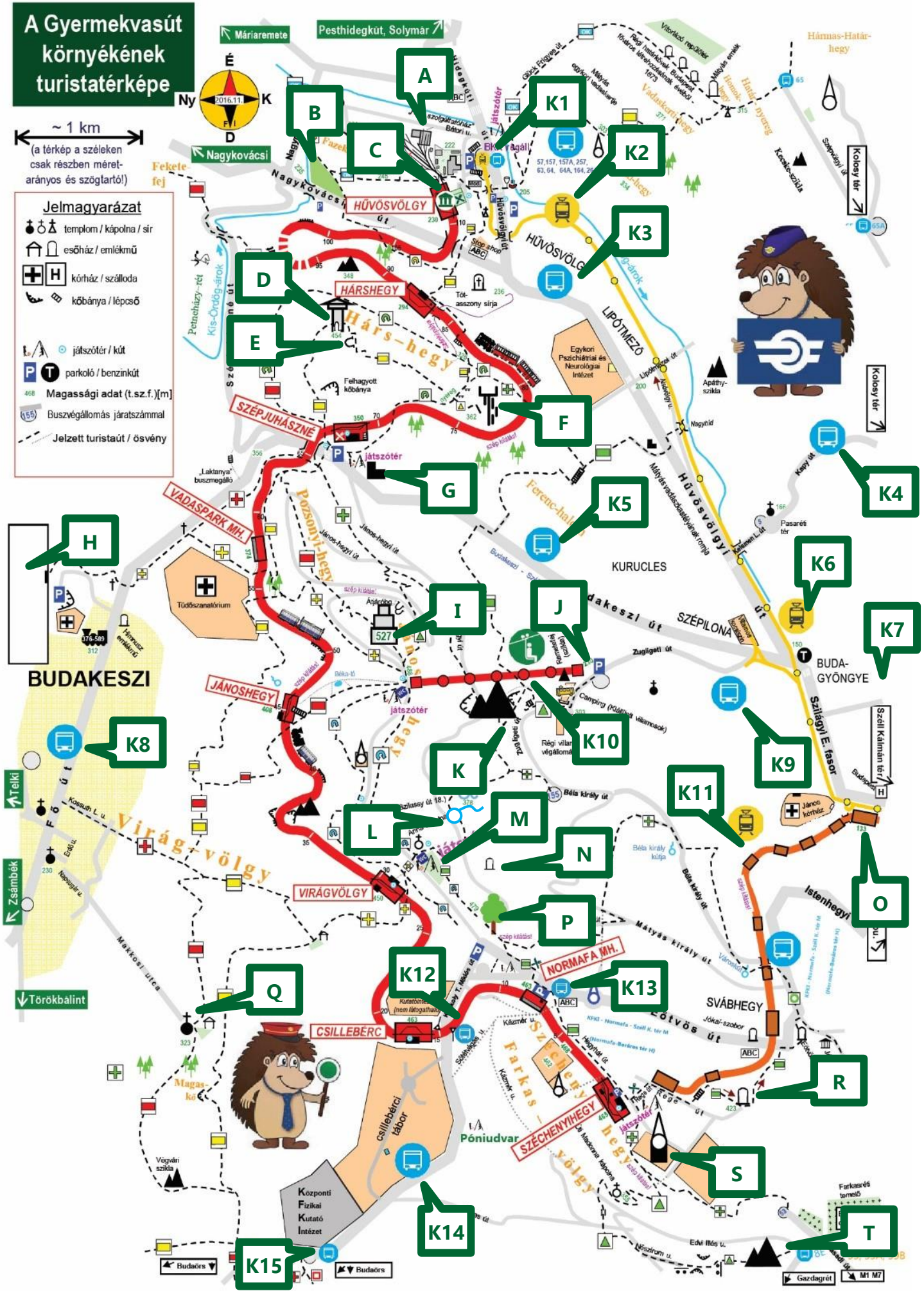
A Gyermekvasút környékének turistatérképe

~ 1 km
(a térkép a széleken csak részben méretarányos és szögeltartó!)

Jelmagyarázat

- templom / kápolna / sír
- esőház / emlékmű
- kórház / szálloda
- kőbánya / lépcső

- játszótér / kút
- parkoló / benzinkút
- Magassági adat (t.sz.f.) [m]
- Buszvégállomás járatszámmal
- Jelzett turistaut / ösvény



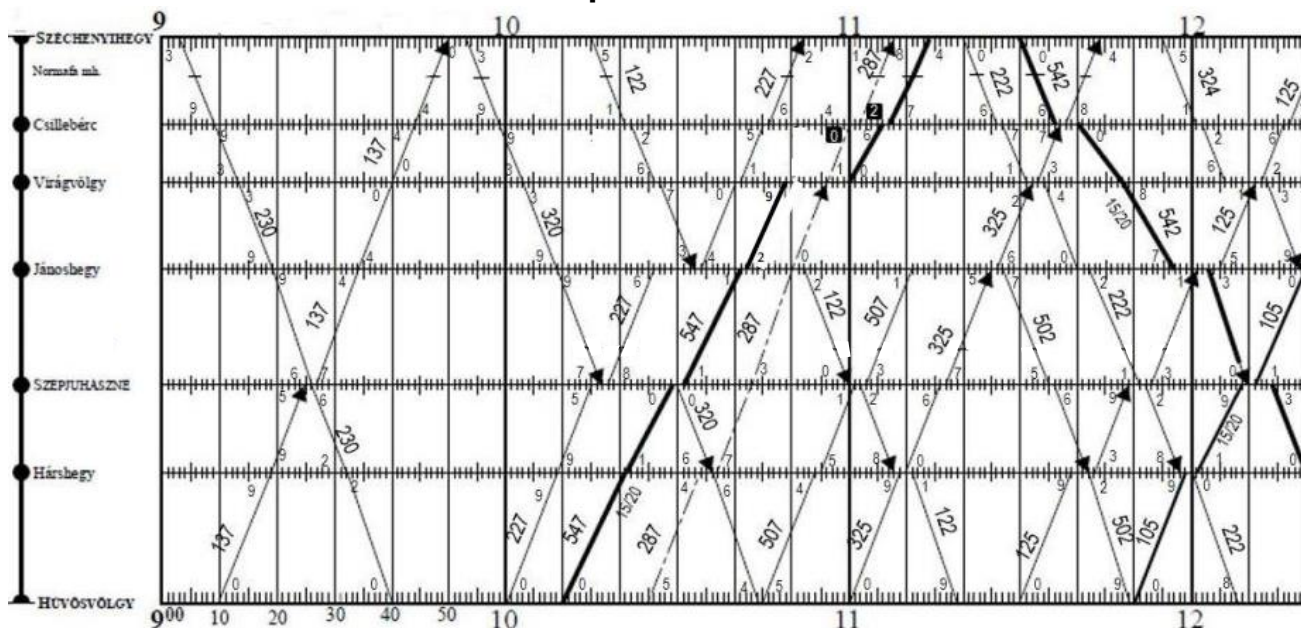
71. Írd a térképen betűkkel megjelölt nevezetességek nevét a megfelelő betűjelzés mellé!

A. _____	L. _____
B. _____	M. _____
C. _____	N. _____
D. _____	O. _____
E. _____	P. _____
F. _____	Q. _____
G. _____	R. _____
H. _____	S. _____
I. _____	T. _____
J. _____	
K. _____	

Írd a „K” betűvel és számmal jelölt közlekedési kapcsolatokat a megfelelő jelölés mellé!

K1. _____	K9. _____
K2. _____	K10. _____
K3. _____	K11. _____
K4. _____	K12. _____
K5. _____	K13. _____
K6. _____	K14. _____
K7. _____	K15. _____
K8. _____	

72. Olvasd le a menetrend szerinti adatokat a menetrendábráról, majd írd azokat a kérdések után! (Ha a kért adat nem szerepel, akkor azt húzd ki!)



Írd ide, hogy hány percnként vannak meghúzva a függőleges vonalak? _____ percnként

A 137 sz.v. Szépiuhászne áll.-on érkezik: _____ ó. _____ p., indul: _____ ó. _____ p., vagy áthalad: _____ ó. _____ p.

A 324 sz.v. Normafa mh-en megáll-e? _____ A 230 sz.v. Normafa mh-en megáll-e? _____

A 137 sz.v. Csillebérc áll.-on érkezik: _____ ó. _____ p., indul: _____ ó. _____ p., vagy áthalad: _____ ó. _____ p.

A 547 sz.v. Hárshegy áll.-on érkezik: _____ ó. _____ p., indul: _____ ó. _____ p., vagy áthalad: _____ ó. _____ p.

A 122 sz.v. Jánoshegy áll.-on érkezik: _____ ó. _____ p., indul: _____ ó. _____ p., vagy áthalad: _____ ó. _____ p.

A 287 sz.v. Csillebérc áll.-on érkezik: _____ ó. _____ p., indul: _____ ó. _____ p., vagy áthalad: _____ ó. _____ p.

73. Írd a meghatározások mellé a menetdíjak és egyéb díjak összegét, valamint írd oda a színek kódokat is!

Jegy	Ár	Színkód
Felnőtt MENETJEGY egyszeri utazásra	_____ Ft	
Gyermek MENETJEGY egyszeri utazásra	_____ Ft	
Felnőtt ÁTSZÁLLÓJEGY kétszeri utazásra	_____ Ft	
Gyermek ÁTSZÁLLÓJEGY kétszeri utazásra	_____ Ft	
Családi napijegy	_____ Ft	
Felnőtt nosztalgia póti jegy	_____ Ft	
Gyermek nosztalgia póti jegy	_____ Ft	
Kerékpár és kutya menetjegy	_____ Ft	

74. Mit kell tudni a menetjegyek és átszállójegyek viszonylati érvényességéről?

A menetjeggyel _____
(_____).

Az átszállójeggyel _____

Átszállójegyet csak akkor szabad _____
_____.

75. A MÁV alkalmazásban megvásárolható gyermekvasúti jegyfajták.

_____ napijegy: _____ Ft; _____ napijegy: _____ Ft

A _____/_____ napijegyet a Gyermekvasúton _____.

A jegyen szereplő _____
_____;

a nosztalgiavonatokra _____

A Munkafüzetet a **Segédlet TEAM** tagjai készítették. Reméljük, hogy hasznodra válik a vizsgára való felkészülés során. Ha bármilyen észrevételed van a füzetrel kapcsolatban, kérjük, juttasd el nekünk a sihuhu.com/szakmai oldal alján található űrlap segítségével!

Segédlet TEAM: Váczi Viktor, Szente Dávid,



A vizsgára a Gyermekvasutas Ellenőrződet és a gyermekvasúti Igazolványodat is hozd magaddal!